

TESTES DO CÓDIGO DA ESTRADA E SEGURANÇA RODUVIÁRIA DE MOÇAMBIQUE

O livro que o fará
passar no exame!

21

TESTES

8/10/18
Felício Mendes
03/08/18

TESTES
DO
CÓDIGO
DA
ESTRADA
E SEGURANÇA RODOVIÁRIA DE
MOÇAMBIQUE

Título


Testes do Código da Estrada
e Segurança Rodoviária de Moçambique

Criação Intelectual

Maria Ribeiro

Editora

Plural Editores

Entre no , aperte o cinto e muita atenção nos próximos 21 testes...
e na estrada!



Moçambique

Av. Patrice Lumumba, 765 | Maputo
Telef. 21 36 09 00
Cel. 82 32 24 960 | 84 30 28 212
Fax 21 30 88 68
E-mail plural@pluraleditores.co.mz

www.pluraleditores.co.mz

Apesar de todo o esforço e cuidado postos na sua elaboração, esta obra é susceptível de conter possíveis falhas ou deficiências, pelo que apelamos para a compreensão e costumada benevolência do leitor, na certeza de que nos empenhámos ao máximo para a diminuição desse risco. Neste sentido, o editor aconselha os leitores a confrontar o texto do diploma legal publicado nesta obra com a respectiva publicação no jornal oficial.

TESTE 01



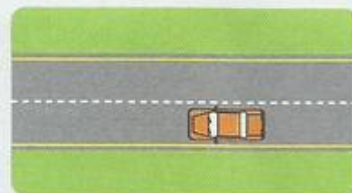
1 Dos seguintes factores, qual considera o mais importante na prevenção de acidentes rodoviários?

- a) Ter um veículo novo.
- b) Circular sempre a velocidade inferior a 20 km/h.
- c) Praticar uma condução defensiva.



2 A linha longitudinal contínua amarela do meu lado esquerdo pode ser pisada, mas não transposta.

- a) A afirmação é verdadeira.
- b) A afirmação é falsa.



3 Por via de abrandamento entende-se:

- a) Via de trânsito resultante do estreitamento da faixa de rodagem.
- b) Via de trânsito resultante do alargamento da faixa de rodagem.
- c) Via de trânsito destinada ao acesso a uma auto-estrada.



4 A indicação dada por este sinal vertical de paragem obrigatória prevalece sobre as regras gerais de trânsito da prioridade de passagem?

- a) Sim, excepto para os veículos em missão urgente de socorro.
- b) Não, a regra de trânsito prevalece sobre o sinal vertical.
- c) Sim, o sinal prevalece sobre as regras de trânsito.



5 Posso considerar que há manobras perigosas?

- a) Não, se forem realizadas com celeridade.
- b) Sim, todas as que forem realizadas em vias de trânsito rápido.
- c) Sim, qualquer manobra que seja realizada de forma imprudente.



6 Face à sinalização, sei:

- a) Que posso encontrar peões a atravessar a faixa de rodagem.
- b) Que me aproximo de uma passagem de peões.
- c) Que vou encontrar uma deformação côncava no pavimento.



7 A que distância devo circular da berma?

- a) O mais próximo possível, mas de modo a evitar qualquer acidente.
- b) O mais afastado possível.
- c) A uma distância de aproximadamente 20 cm.



8 O contorno de placas pode ser feito pela direita, de forma a dar a esquerda à parte central?

- a) Não, nunca.
- b) Sim, se se encontra numa via de sentido único.
- c) Sim, desde que devidamente sinalizada a manobra com o uso dos sinais sonoros.



9 O sinal vertical indica proibição de transitar:

- a) Apenas a automóveis.
- b) Apenas a veículos a motor.
- c) A todos os veículos.



10 Ao iniciar uma ultrapassagem, devo assinalar a minha intenção com a devida antecedência?

- a) Sim, sempre.
- b) Sim, mas apenas se circular algum veículo à minha retaguarda.
- c) Não, uma vez que passo a transitar noutra via.



11 Em caso de cassação da carta, não é concedido ao seu titular um novo título de condução pelo período de, pelo menos:

- a) 5 anos.
- b) 3 anos.
- c) 6 anos.



12 Considera-se que a visibilidade é reduzida ou insuficiente, se o condutor não avistar a faixa de rodagem, em toda a largura, numa extensão de, pelo menos:

- a) 200 metros.
- b) 50 metros.
- c) 100 metros.



13 Este sinal é de:

- a) Proibição.
- b) Cedência de passagem.
- c) Afectação de vias.



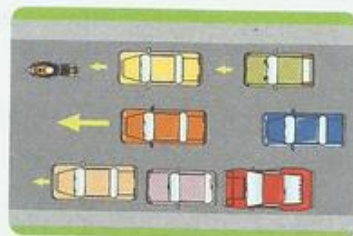
14 Circulo correctamente na via de trânsito da direita?

- a) Sim, se estiver a fazer marcha-atrás.
- b) Não.
- c) Sim, se estiver a ultrapassar.



15 Nesta situação, não me é permitido mudar de fila para outra mais à esquerda?

- a) Sim.
- b) Não.
- c) Sim, excepto para mudar de direcção, parar ou estacionar.



16 A altura máxima para um veículo é de:

- a) 3,55 m a contar do solo.
- b) 3,60 m a contar do solo.
- c) 4,30 m a contar do solo.



17 É proibido o transporte de bebidas alcoólicas ou de substâncias psicotrópicas na parte reservada aos passageiros em veículos automóveis.

- a) Certo.
- b) Errado.



18 Entende-se por visão estereoscópica:

- a) Capacidade de distinguir as cores.
- b) Capacidade de interpretação tridimensional.
- c) Capacidade de visão nocturna.



19 A pressão dos pneus deve ser verificada:

- a) Apenas quando estes estão vazios.
- b) Regularmente.
- c) Apenas antes de uma longa viagem.



20 Um amortecedor com fuga de óleo pode provocar:

- a) Diminuição do conforto e aumento de aderência ao pavimento.
- b) Aumento do conforto e diminuição de aderência ao pavimento.
- c) Perda de aderência.



21 É permitido o transporte de pessoas em número que exceda a lotação de um veículo.

- a) Certo.
- b) Errado.



22 As luzes de estrada destinam-se a iluminar a faixa de rodagem no mínimo em:

- a) 150 metros.
- b) 200 metros.
- c) 100 metros.



23 A carga e descarga na via pública deve fazer-se:

- a) Apenas pelo lado permitido para a paragem.
- b) Pelo lado permitido para a paragem ou pela retaguarda.
- c) De forma lenta e silenciosa.



24 Após a ingestão de bebidas alcoólicas:

- a) O tempo de reacção diminui.
- b) A capacidade de reacção aumenta.
- c) O tempo de reacção aumenta.



25 O condutor de transporte de serviços públicos considera-se sob influência de álcool quando a taxa de alcoolemia no sangue (TAS) ou taxa de ar expirado (TAE) for superior a:

- a) 0,6 g/l.
- b) 0,0 g/l.
- c) 0,7 g/l.



26 O triângulo de pré-sinalização de perigo deve ser colocado:

- a) A 50 metros e ser visível a 150 metros.
- b) A 30 metros e ser visível a 130 metros.
- c) A 30 metros e ser visível a 100 metros.



27 A velocidade deve ser especialmente moderada:

- a) Apenas nas descidas de inclinação acentuada.
- b) Em todos os locais assinalados com sinais de perigo.
- c) Apenas na presença de peões.



28 É proibido o transporte de crianças no banco da frente de um automóvel com idade inferior a:

- a) 7 anos.
- b) 10 anos.
- c) 12 anos.



29 A aquaplanagem pode ocorrer devido:

- a) Ao eficaz poder de travagem de um veículo equipado com ABS.
- b) À perda de aderência por excesso de água entre o pavimento e o pneumático.
- c) Ao aumento de aderência por excesso de água entre o pavimento e o pneumático.



30 É obrigatória a utilização de cintos de segurança?

- a) Sim, mas apenas pelo condutor.
- b) Sim, pelo condutor e pelos passageiros, mas apenas fora das localidades.
- c) Sim, pelo condutor e passageiros transportados.



TESTE 02



1 As regras de trânsito prevalecem sobre as indicações dos sinais.

- a) Certo.
- b) Errado.



2 O elemento principal da via pública é:

- a) A via.
- b) O veículo.
- c) O Homem.



3 Perante esta sinalização:

- a) Devo aumentar a velocidade e diminuir a distância de travagem.
- b) Devo aumentar a distância de segurança, devido à diminuição da distância de paragem.
- c) Devo aumentar a distância de segurança, devido ao aumento da distância de paragem.



4 Ao circular fora de uma localidade posso utilizar os sinais sonoros?

- a) Sim, como forma de protesto.
- b) Não, estou obrigado a fazer a sua substituição por sinais de luzes.
- c) Sim, para prevenir um condutor da minha intenção de o ultrapassar.



5 Ao mudar de direcção, o condutor deve deixar passar os peões que estejam a atravessar a faixa de rodagem da via em que vai entrar?

- a) Não.
- b) Sim, desde que exista passagem assinalada para a travessia de peões.
- c) Sim, mesmo que não exista passagem assinalada para a travessia de peões.



6 Ao entrar numa rotunda devo ceder a passagem.

- a) Certo.
- b) Errado.



7 É permitida a mudança de via de trânsito, depois de tomadas as devidas precauções, a fim de:

- a) Mudar de direcção, ultrapassar, parar e fazer marcha-atrás.
- b) Mudar de direcção, ultrapassar, parar ou estacionar.
- c) Parar ou estacionar.



8 Para concluir a manobra de ultrapassagem:

- a) Devo assinalar a minha intenção com a necessária antecedência.
- b) Não preciso de assinalar a minha intenção, caso não circule ninguém à minha retaguarda.



9 Após este sinal:

- a) O estacionamento é permitido.
- b) O estacionamento é proibido.
- c) A paragem e o estacionamento são proibidos.



10 A que velocidade devo circular nos túneis?

- a) 60 km/h.
- b) 70 km/h.
- c) A velocidade moderada.



11 Até encontrar este sinal estava impedido de inverter o sentido de marcha?

- a) Sim.
- b) Não.



12 A distância de paragem é a soma da distância de reacção mais a distância de travagem.

- a) Certo.
- b) Errado.

$$DP = DR + DT$$



13 Este sinal indica a proibição de ultrapassar para:

- a) Automóveis de passageiros.
- b) Todos os automóveis e motociclos com carro lateral.
- c) Todos os automóveis e motociclos simples.



14 É permitido aos peões atravessar a faixa de rodagem fora dos locais destinados para o efeito?

- a) Sim, o mais rapidamente possível e se não existir passagem assinalada para peões a menos de 50 m.
- b) Sim, lenta e calmamente.



15 Perante o verde da sinalização luminosa:

- a) A passagem é sempre autorizada.
- b) A passagem apenas é autorizada quando seja previsível ficar no centro da intercepção.
- c) A passagem é proibida quando seja previsível ficar imobilizado no centro da intercepção.



16 Os automóveis devem dispor à retaguarda:

- a) Dois médios de cor branca ou amarela.
- b) Dois reflectores de cor vermelha.
- c) Dois médios de cor vermelha ou alaranjada.



17 É proibida a utilização das luzes de estrada:

- a) Quando o condutor circula a menos de 150 metros do veículo antecedente.
- b) Quando o condutor circula a mais de 150 metros do veículo precedente.
- c) Quando o condutor circula a menos de 100 metros do veículo precedente.



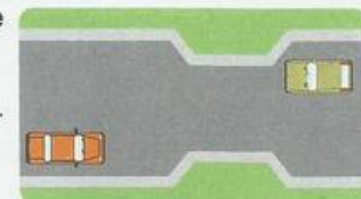
18 Os sinais de carácter temporário prevalecem sobre a restante sinalização gráfica vertical.

- a) Certo.
- b) Errado.



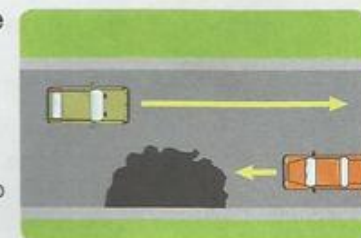
19 Não sendo possível o cruzamento entre o meu veículo e o que circula em sentido contrário:

- a) Recua quem está mais próximo do local em que o cruzamento é possível.
- b) Recua um ligeiro perante um pesado.
- c) Recua quem desce.




20 Nesta situação, em que a minha via se encontra parcialmente obstruída:

- a) Devo ceder a passagem.
- b) Tenho prioridade de passagem.
- c) Devo recuar a fim de ceder a passagem ao veículo que circula em sentido contrário.



21 Estando a uma distância idêntica do local em que o cruzamento é possível:

- a) Recua o veículo que desce.
- b) Recua o veículo que sobe.
- c) Tem prioridade o veículo que sobe.



22 A manobra de marcha-atrás:

- a) Deve ser realizada lentamente e no menor espaço possível.
- b) Deve ser realizada lentamente e no maior espaço possível.
- c) Só é permitida como manobra de recurso.



23 A manobra de ultrapassagem é sempre proibida:

- a) Nas passagens assinaladas para a travessia de peões.
- b) Imediatamente antes e nas passagens assinaladas para a travessia de peões.
- c) Em todas as curvas.



24 Pretendendo mudar de direcção à direita neste local, devo:

- a) Aproximar o veículo com a necessária antecedência do eixo da faixa de rodagem.
- b) Aproximar o veículo com a necessária antecedência do limite direito da faixa de rodagem.
- c) Seguir a marcha, porque a sinalização impede a mudança de direcção.



25 É sempre proibido parar ou estacionar:

- a) Nas auto-estradas ou vias reservadas a automóveis e motociclos, excepto nos locais destinados a esse fim.
- b) Em todas as curvas.
- c) A menos de 5 metros e nas passagens assinaladas para a travessia de peões.



26 O título de condução é cassado quando:

- a) Nos últimos 5 anos, o condutor tenha sido sancionado pela prática de 5 contra-venções, entre graves e médias.
- b) Tenham sido cometidas duas contra-venções.
- c) Tenha sido revalidado.



27 No caso de acender a luz do termómetro no painel de instrumentos, devo:

- a) Parar e aguardar que apague.
- b) Verificar o sistema de lubrificação.
- c) Verificar o sistema de refrigeração.



28 Para a obtenção de título de condução é obrigatório:

- a) Apenas saber ler e escrever.
- b) Possuir a idade mínima, de acordo com a categoria pretendida.
- c) Possuir a idade de 18 anos.



29 O relevo mínimo dos pneumáticos é de:

- a) 1,5 mm nos ligeiros.
- b) 1,6 mm nos motociclôs.
- c) 1 mm nos pesados.



30 Para obtenção das categorias A, B e BE, a idade mínima obrigatória é de:

- a) 21 anos.
- b) 18 anos.
- c) 17 anos, desde que seja apresentada autorização do poder paternal.



TESTE 03



1 Ao circular numa via de aceleração, tenho prioridade de passagem sobre os veículos que circulam na via em que vou entrar?

- a) Não.
- b) Não, excepto quando circulo em missão urgente de socorro.
- c) Sim, uma vez que me apresento pela esquerda.



2 A atitude dos condutores influencia a segurança rodoviária.

- a) Certo.
- b) Errado.



3 A circulação sob condições atmosféricas adversas afecta:

- a) A distância de reacção.
- b) A distância de paragem.
- c) A distância de reacção e de travagem.



4 Em circulação, devo ter em consideração:

- a) Unicamente a distância que guardo do veículo que circula à minha frente.
- b) Apenas a distância lateral.
- c) Todas as distâncias a manter em relação aos outros veículos.



5 Qual destes sinais proíbe a inversão do sentido de marcha?

- a) Ambos.
- b) O sinal de obrigação.
- c) O sinal de informação.



6 Perante a luz amarela intermitente do sinal tricolor:

- a) Devo moderar a velocidade e parar.
- b) Devo avançar com velocidade especialmente moderada.
- c) Devo imobilizar o veículo na zona delimitada pelo sinal.



7 Perante este sinal, todos os veículos são obrigados a parar?

- a) Sim.
- b) Não.
- c) Sim, excepto os veículos em missão urgente de socorro.



8 É proibido parar ou estacionar:

- a) A 6 metros, para um e outro lado, dos cruzamentos ou entroncamentos.
- b) Nas pontes, túneis e passagens de nível.
- c) A mais de 5 metros das passagens assinaladas para a travessia de peões.



9 Fora das localidades é permitido:

- a) O estacionamento nas faixas de rodagem durante a noite.
- b) O estacionamento fora da faixa de rodagem.
- c) A paragem e o estacionamento a menos de 50 metros das curvas de visibilidade reduzida.




10 Após detecção de ingestão de bebidas alcoólicas, o condutor fica impedido de conduzir por um período de:

- a) 10 horas.
- b) 12 horas.
- c) 24 horas.



11 Qual das seguintes afirmações está correcta?

- a) A distância de paragem e travagem aumenta com a falta de aderência.
- b) A distância de paragem e travagem diminui com a falta de aderência.



12 A que distância devo circular do veículo precedente?

- a) A uma distância não inferior a 20 metros.
- b) A uma distância que me permita imobilizar o veículo sem perigo de acidente.
- c) O mais próximo possível, de forma a não congestionar o trânsito.



13 Não sou obrigado a sinalizar a manobra de mudança de direcção sempre que não circule nenhum veículo à minha retaguarda.

- a) A afirmação é verdadeira.
- b) A afirmação é falsa.



14 Sendo as distâncias idênticas, quem deve recuar para permitir a passagem?

- a) O automóvel.
- b) O conjunto de veículos.



15 Quem deve ceder a passagem nesta situação?

- a) O meu veículo, porque a ambulância vai em missão urgente de socorro.
- b) O veículo prioritário, porque entra numa auto-estrada.



16 Dentro das localidades, o estacionamento:

- a) Só é permitido em parques de estacionamento.
- b) Deve ser feito nos locais especialmente destinados para o efeito.
- c) Deve ser feito paralelamente em sentido contrário à marcha.



17 Dentro das localidades, a utilização dos sinais sonoros só é permitida em caso de perigo iminente.

- a) Certo.
- b) Errado.



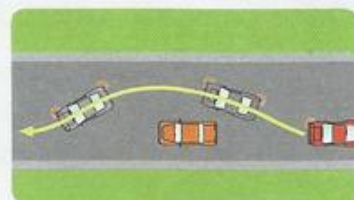
18 Como deve proceder o condutor se constatar que o sistema de escape emite um ruído superior ao normal.

- a) Deve desmontar o sistema de escape.
- b) Deve providenciar a sua reparação.
- c) Deve aguardar pela inspeção periódica obrigatória.



19 Um condutor ao ser ultrapassado deve:

- a) Utilizar os sinais sonoros, se circular fora da localidade.
- b) Diminuir a velocidade para facilitar a ultrapassagem.
- c) Manter a velocidade.



20 Por paragem entende-se:

- a) A imobilização do veículo pelas circunstâncias próprias da circulação.
- b) A imobilização do veículo pelo tempo estritamente necessário para a entrada e saída de passageiros.
- c) A imobilização do veículo pelo tempo estritamente necessário unicamente para cargas e descargas.



21 Os sistemas de retenção para crianças devem ser adaptados ao seu tamanho e altura.

- a) Certo.
- b) Errado.



22 Nesta situação, devo ceder a passagem aos dois veículos?

- a) Não
- b) Sim.



23 O tempo de reacção de um condutor varia em função:

- a) Da idade do condutor, estado psicofísico e estado do veículo.
- b) Da idade do condutor, estado psicológico e ingestão de bebidas alcoólicas.
- c) Do estado físico, condições atmosféricas e estado de saúde.



24 Que combustível se deve utilizar no veículo?

- a) Um qualquer, pois é indiferente.
- b) Aquele que o condutor escolher.
- c) O indicado pelo fabricante do veículo.



25 Após a lavagem do veículo, o condutor deve testar:

- a) O sistema eléctrico.
- b) O sistema de iluminação.
- c) O sistema de travagem.



26 Nos túneis é proibido:

- a) A utilização das luzes de máximos.
- b) Parar, mas não estacionar.
- c) Parar e estacionar.



27 Como são sancionadas as contravenções médias e graves?

- a) Com inibição de conduzir, apenas.
- b) Com inibição de conduzir de 2 anos.
- c) Com multa e inibição de conduzir.



28 Em caso de acidente, deve(m) ser submetido(s) à prova de pesquisa de álcool:

- a) O condutor.
- b) O condutor e os passageiros.
- c) Todos os intervenientes, mesmo que se tenha registado mortes.



29 Na condução nocturna:

- a) A visibilidade é diminuída.
- b) Aumenta a capacidade do condutor.
- c) Diminui o tempo de reacção do condutor.



30 O condutor, durante a marcha do veículo, está proibido de:

- a) Utilizar aparelhos dotados de um auricular.
- b) Utilizar telemóvel com recurso de um auricular.
- c) Utilizar telemóvel.



TESTE 04



1 Qual o significado do sinal vertical?

- a) Trânsito proibido a veículos ou conjunto de veículos com mais de 15 metros de comprimento.
- b) Trânsito proibido a veículos de mercadorias com mais de 15 metros de comprimento.
- c) Trânsito proibido a todos os veículos de mercadorias.



2 De que cor são as luzes de estrada?

- a) Vermelhas ou alaranjadas.
- b) Brancas ou alaranjadas.
- c) Brancas ou amarelas.



3 Perante este sinal de cedência de passagem, todos os condutores são obrigados:

- a) A parar e ceder a passagem a todos os veículos.
- b) A ceder a passagem aos veículos a motor que se encontrem na intercepção.
- c) A ceder a passagem a todos os veículos com que se vão cruzar.



4 Quantas matrículas têm os automóveis?

- a) Uma matrícula.
- b) Duas matrículas.



5 Perante este sinal, todos os veículos estão proibidos de circular em ambos os sentidos.

- a) Certo.
- b) Errado.



6 A distância de reacção aumenta com:

- a) A idade e estado físico do condutor e estado do veículo.
- b) A idade do condutor, estado psicológico e a ingestão de bebidas alcoólicas.
- c) O estado físico, condições atmosféricas, estado de saúde do condutor e sistema de travagem.



7 Determinados medicamentos podem provocar:

- a) Diminuição da acuidade visual.
- b) Aumento da capacidade de percepção.
- c) Aumento da acuidade visual.



8 A velocidade máxima para os tractores agrícolas dentro das localidades é de:

- a) 30 km/h.
- b) 20 km/h.
- c) 40 km/h.



9 A manobra de ultrapassagem é proibida:

- a) Em todas as curvas.
- b) Em todas as curvas de má visibilidade.
- c) Em todas as curvas de visibilidade suficiente.



10 Quando o condutor ingere bebidas alcoólicas, o seu estado físico e psicológico altera-se:

- a) Diminuindo o tempo de reacção e aumentando a capacidade de reacção.
- b) Aumentando o tempo de reacção e diminuindo a capacidade de reacção.
- c) Aumenta a sua atenção em relação aos outros condutores.



11 Será aplicada a inibição de conduzir de 2 anos ao condutor que:

- a) Praticar contravenção média pela 2.ª vez.
- b) Praticar contravenção média pela 4.ª vez.
- c) Praticar contravenção grave pela 1.ª vez.



12 Este sinal é de proibição?

- a) Sim.
- b) Não.



13 Fora de uma localidade, posso utilizar os sinais sonoros?

- a) Não, nunca o devo fazer.
- b) Sim, se necessário.
- c) Não, pois é proibido.



14 Os pneus fazem parte do sistema de:

- a) Direcção.
- b) Suspensão.
- c) Travagem.



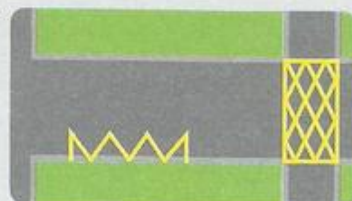
15 O que são títulos de condução?

- a) Cartas de condução, licenças de condução e certificado de matrícula.
- b) Cartas de condução, licenças de condução, certificado de matrícula e ficha de inspeção.
- c) Cartas e licenças de condução.



16 Todas as marcas rodoviárias de cor amarela têm carácter temporário.

- a) Certo.
- b) Errado.



17 Qual a idade mínima para a habilitação legal de condução de um veículo da categoria D?

- a) 18 anos.
- b) 25 anos.
- c) 21 anos.



18 O triângulo de pré-sinalização de perigo é obrigatório em todos os veículos a motor?

- a) Sim.
- b) Não.



19 Durante uma viagem, o que deve fazer o condutor para evitar que a sonolência se instale?

- a) Ventilar bem o veículo.
- b) Evitar dormir antes das viagens.
- c) Conversar com os outros ocupantes do veículo.



20 Perante o sinal de portagem, o condutor:

- a) Está proibido de parar.
- b) Está proibido de seguir a marcha sem parar.
- c) Está obrigado a não parar.



21 Se o condutor não ceder a passagem a um peão na passadeira, comete uma contração:

- a) Leve.
- b) Grave.
- c) Média.



22 Perante este sinal, o condutor fica obrigado a acender as luzes.

- a) Certo, mas apenas os automóveis ligeiros.
- b) Certo.
- c) Errado.



23 O triângulo de pré-sinalização de perigo deve ser colocado a pelo menos 100 metros do local a sinalizar?

- a) Sim.
- b) Não.



24 O que significa T.A.S. = 0,4 g/l?

- a) Em cada litro de bebida alcoólica existem 0,4 g/l de álcool.
- b) Em cada litro de bebida alcoólica existem 0,4 g/l de sangue.
- c) Em cada litro de sangue existem 0,4 g/l de álcool.




25 Nesta via posso inverter o sentido de marcha?

- a) Sim, se não puser em causa a segurança dos outros utentes.
- b) Não.



26 Nas pontes posso parar?

- a) Sim, para deixar sair um passageiro.
- b) Sim, sempre.
- c) Não, a manobra é proibida.



27 Duas linhas contínuas adjacentes proíbem a ultrapassagem.

- a) Errado.
- b) Certo.



28 Perante esta situação, o condutor deve:

- a) Buzinar, para que o peão saia da via.
- b) Moderar a velocidade.
- c) Moderar a velocidade e utilizar os sinais sonoros em caso de perigo iminente.



29 De quem é a responsabilidade sobre as infracções cometidas durante a prova prática de condução?

- a) Do instrutor.
- b) Do examinador.
- c) Do examinando.



30 Nas contravenções médias, para além da multa inerente à contravenção é aplicada a sanção acessória de:

- a) 3 meses, quando se trate da segunda vez.
- b) 2 anos, quando se trate da quarta vez.
- c) 2 anos, quando se trate da primeira vez.



TESTE 05



1 Perante o sinal luminoso verde do sistema tricolor o condutor:

- a) Deve abrandar a marcha e parar.
- b) Está sempre autorizado a avançar.
- c) Regra geral, pode avançar.



2 Os elementos constituintes da via pública são:

- a) Apenas o homem.
- b) O Homem, a via e o veículo.
- c) Apenas o veículo e a via.



3 A experiência de um condutor influencia a avaliação que é feita em cada situação de trânsito.

- a) Errado.
- b) Certo



4 A circulação sob condições atmosféricas adversas afecta:

- a) A distância de reacção.
- b) A distância de paragem.
- c) A distância de reacção e de travagem.



5 O condutor deve circular:

- a) Do lado direito da faixa de rodagem, o mais próximo possível dos passeios, conservando destes uma distância que permita evitar acidentes.
- b) Do lado esquerdo da faixa de rodagem, o mais próximo possível dos passeios, conservando destes uma distância que permita evitar acidentes.
- c) Indistintamente de qualquer um dos lados da faixa de rodagem, desde que não provoque qualquer acidente.



6 O contorno da rotunda deve ser feito por forma:

- a) A dar a direita à parte central da placa.
- b) A dar a esquerda à parte central da placa.
- c) Indistintamente por um dos lados, desde que não cause perigo nem embaraço para o trânsito.




7 Regra geral, só é permitida a utilização do lado direito da faixa de rodagem para ultrapassar?

- a) Certo.
 b) Errado.



8 Nesta situação, se pretendo mudar de via devo:

- a) Assinalar a minha intenção de mudança de via de trânsito através do sinal indicador de mudança de direcção.
 b) Assinalar a minha intenção de mudança de via de trânsito através dos sinais sonoros.
 c) Assinalar a minha intenção de mudança de via de trânsito através dos sinais luminosos.
 d) Não é obrigatório assinalar a intenção de mudança de via.



9 Dentro das localidades, só posso utilizar os sinais sonoros em caso de perigo iminente?

- a) Sim.
 b) Não.



10 Após este sinal, a que velocidade devo circular?

- a) A uma velocidade não superior a 70 km/h.
 b) Não devo exceder os 70 km/h.
 c) A uma velocidade especialmente moderada.



11 Ao descrever uma curva devo:

- a) Transitar pelo eixo da faixa de rodagem.
 b) Transitar a velocidade moderada.
 c) Travar fortemente a meio da curva.



12 Nos túneis devo circular:

- a) A 60 km/h.
 b) Com os médios acesos.
 c) A velocidade moderada.



13 A condução perante condições atmosféricas adversas pode prejudicar a distância de travagem.

- a) Certo.
 b) Errado.



14 Devo avançar em simultâneo com o veículo que circula em sentido contrário ao meu?

- a) Sim.
 b) Não.



15 Pretendo mudar de direcção à direita, devo ceder a passagem:

- a) Aos dois veículos.
- b) Ao veículo da esquerda.
- c) Ao veículo da direita.



16 Perante o sinal de fundo azul sei que:

- a) Devo ceder a passagem aos veículos que circulem em sentido contrário.
- b) Tenho prioridade de passagem sempre.
- c) Tenho prioridade de passagem.



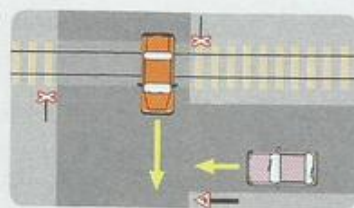
17 Ao entrar numa rotunda, devo:

- a) Ceder a passagem a todos os veículos a motor que nela circulem.
- b) Ceder a passagem a todos os veículos sem motor que nela circulem.
- c) Ceder a passagem a todos os veículos que nela circulem.



18 Ao sair de uma passagem de nível, devo ceder a passagem aos veículos que se apresentem pela esquerda?

- a) Sim, se forem veículos a motor.
- b) Não, se forem veículos sem motor.
- c) Não.



19 Perante este sinal, o condutor deve:

- a) Moderar a velocidade e circular pelo eixo da faixa de rodagem.
- b) Moderar a velocidade e utilizar o travão de serviço de forma activa.
- c) Moderar a velocidade e utilizar o motor como auxiliar do travão.



20 Após o sinal, todos os condutores ficam proibidos de parar ou estacionar.

- a) Certo.
- b) Errado.



21 O condutor comete uma contração grave ao entrar na zona regulada pelo sinal?

- a) Não, se circular dentro de uma localidade.
- b) Sim.
- c) Não, se circular fora das localidades.



22 A prática de excesso de velocidade em mais de 40 Km/h dentro das localidades implica a inibição de conduzir de:

- a) 2 anos, à primeira vez.
- b) 1 ano, à primeira vez.
- c) 6 meses, à primeira vez.
- d) Não implica inibição de conduzir.



23 A ambulância é sempre um veículo prioritário?

- a) Sim.
- b) Não.



24 A carta de condução profissional é emitida a indivíduos com idade mínima de:

- a) 19 anos.
- b) 25 anos.
- c) 21 anos.



25 Todas as contravenções cometidas em auto-estrada são consideradas médias.

- a) A afirmação é verdadeira.
- b) A afirmação é falsa.



26 Todos os veículos a motor e seus reboques devem ser sujeitos a inspeção?

- a) Não, estando o veículo a funcionar em segurança.
- b) Sim, a fim de se verificar periodicamente as suas características e condições de segurança.
- c) Não, o condutor deve regularmente fazer todas as verificações mecânicas.



27 A condução sob influência de substâncias entorpecentes pode ser sancionada com inibição de conduzir.

- a) Certo.
- b) Errado.



28 A responsabilidade pelas infracções cometidas durante a condução é sempre do instrutor?

- a) Sim, durante a realização da prova prática.
- b) Sim, desde que não resultem de desobediência por parte do instruendo.
- c) Sim, sempre.



29 A circulação com as luzes de estrada de modo a provocar encandecamento constitui:

- a) Contravenção média.
- b) Contravenção grave.
- c) Contravenção leve.



30 Em caso de chuva intensa, o condutor deve:

- a) Parar.
- b) Moderar a velocidade, devido ao aumento de aderência.
- c) Moderar a velocidade, devido à diminuição de aderência.



TESTE 06



1 Em média, o tempo de reacção do condutor é de aproximadamente 2 segundos.

- a) Correcto.
- b) Incorrecto.



2 A circulação sob condições atmosféricas adversas implica:

- a) Diminuição da distância de reacção.
- b) Aumento da distância de segurança.
- c) Diminuição da distância de paragem.



3 Dentro das localidades, a utilização dos sinais sonoros de dia só é permitida em caso de perigo iminente.

- a) Certo.
- b) Errado.



4 Todos os utentes da via pública têm direitos e deveres?

- a) Não.
- b) Sim, mesmo sendo peão.
- c) Sim, mas apenas os condutores.



5 Perante o sinal estou proibido de:

- a) Mudar de direcção.
- b) Fazer inversão do sentido de marcha.
- c) Parar e estacionar.



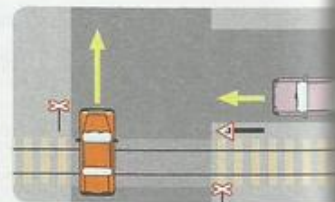
6 Todos os veículos são automóveis.

- a) Certo.
- b) Errado.



7 Sempre que o condutor saia de uma passagem de nível tem o dever de ceder a passagem a todos os veículos que se apresentem pela direita.

- a) A afirmação é verdadeira.
- b) A afirmação é falsa.



8 Os dispositivos de iluminação de um automóvel são:

- a) Luzes de presença, cruzamento e estrada.
- b) Luzes de presença e marcha-atrás.
- c) Luzes de cruzamento e de estrada.



9 É obrigatória a utilização das luzes de perigo:

- a) No caso de avaria das luzes.
- b) No caso de redução súbita de velocidade.
- c) No caso de estacionamento em segunda fila.



10 É obrigatória a utilização das luzes de cruzamento:

- a) Desde a aurora ao crepúsculo.
- b) Desde o amanhecer ao anoitecer.
- c) Desde o crepúsculo à aurora.



11 Nesta situação, ao entrar na rotunda, sou obrigado a ceder a passagem?

- a) Sim, a todos os veículos que nela circulem.
- b) Não, uma vez que me apresento pela direita.
- c) Sim, a todos os veículos a motor.



12 Perante esta sinalização, o condutor está:

- a) Obrigado a circular à velocidade constante indicada pelo sinal.
- b) Proibido de circular a velocidade superior à indicada pelo sinal.
- c) Obrigado a circular a velocidade superior à indicada pelo sinal.



13 É equiparado ao trânsito de peões:

- a) O velocípede.
- b) O velocípede, quando conduzido à mão.



14 Perante a sinalização, fico a saber que tenho de ceder passagem aos veículos que circulem em sentido contrário ao meu.

- a) Certo.
- b) Errado.



15 Perante esta marca rodoviária, os condutores estão proibidos de:

- a) Parar.
- b) Estacionar.



16 Como deve ser feita a manobra de marcha-atrás?

- a) Lentamente e no maior trajecto possível.
- b) Lentamente e no trajecto que o condutor entender como necessário.
- c) Lentamente e no menor trajecto possível.




17 A velocidade máxima permitida aos automóveis ligeiros dentro das localidades é de:

- a) 50 km/h.
- b) 60 km/h.
- c) 70 km/h.



18 Estas marcas rodoviárias são:

- a) Setas de selecção.
- b) Setas de pré-sinalização de desvio.
- c) Setas de orientação.



19 Pretendendo mudar de direcção, não estou obrigado a ceder a passagem aos peões que estejam no atravessamento da faixa de rodagem.

- a) Errado.
- b) Certo.



20 A mudança de direcção à direita deve ser efectuada:

- a) No menor trajecto possível.
- b) Pelo eixo da via, de forma a dar a esquerda à parte central.
- c) No maior trajecto possível.
- d) Pelo eixo da via, de forma a dar a direita à parte central.



21 Pode ser bloqueado ou removido o veículo que:

- a) Se encontre estacionado indevida ou abusivamente.
- b) Se encontre estacionado na faixa de rodagem dentro das localidades.
- c) Se encontre estacionado em parque.



22 Nas lombas de um sentido estou impedido de:

- a) Ultrapassar.
- b) Fazer inversão do sentido de marcha.
- c) Ultrapassar e fazer marcha-atrás.



23 Entende-se por campo visual:

- a) A capacidade de ver nitidamente.
- b) A capacidade de distinguir as cores.
- c) Tudo o que o condutor vê, olhando em frente sem mexer os olhos.



24 A sonolência provoca no condutor:

- a) Aumento do tempo de reacção.
- b) Aumento da capacidade de reacção.
- c) Diminuição do tempo de reacção.



25 O sinal de pré-sinalização de perigo, quando obrigatório, na auto-estrada, deve ser colocado a:

- a) A 20 metros por forma a ser visível a 100 metros.
- b) A 10 metros por forma a ser visível a 200 metros.
- c) A 30 metros por forma a ser visível a 100 metros.



26 O condutor que circula em sentido contrário faz a utilização das luzes de máximos. Como devo proceder nesta situação de encandeamento?

- a) Buzinar até que o condutor se aperceba.
- b) Manter as luzes de médios, desviar o olhar para a direita da faixa de rodagem e reduzir a velocidade.
- c) Reduzir a velocidade e activar as luzes de máximos, para evitar o encandeamento.



27 É proibido ultrapassar nas pontes.

- a) Certo.
- b) Errado.




28 Um obstáculo que aparece na frente de um condutor sob influência de álcool parece estar:

- a) Mais perto.
- b) Mais longe.
- c) À distancia correcta.



29 A bateria deve ser verificada regularmente?

- a) Sim, e se necessário adicionar ácido sulfúrico até cobrir as placas.
- b) Não, uma vez que não é possível.
- c) Sim, e se necessário adicionar água destilada.



30 A embraiagem tem por função:

- a) Interromper ou estabelecer a ligação do motor às rodas motoras.
- b) Manter o veículo em andamento.
- c) Permitir o arranque do veículo em frio.



TESTE 07



1 Este sinal proíbe o acesso a:

- a) Todos os motocicletos.
- b) Motociclos simples.
- c) Motociclos simples e com carro lateral.



2 Os sinais sonoros devem ser substituídos pelos sinais luminosos?

- a) Não.
- b) Sim, sempre que circulo à noite dentro de uma localidade.
- c) Sim, de forma a provocar encadeamento.



3 É equiparada ao trânsito de peões:

- a) A condução de um velocípede.
- b) A condução de uma cadeira de rodas.



4 A função dos agentes reguladores e fiscalizadores do trânsito destina-se:

- a) Ao ordenamento de trânsito, de forma a provocar congestionamento.
- b) Ao ordenamento e regulação do trânsito.
- c) Ao desordenamento de regulação do trânsito, de forma a evitar o congestionamento.



5 O condutor só pode iniciar ou retomar a marcha após assinalar devidamente a sua intenção e com a necessária antecedência.

- a) Não.
- b) Sim, sempre.
- c) Sim, mas apenas se transitarem veículos à sua retaguarda.



6 O contorno de placas colocadas no eixo da faixa de rodagem deve ser feito pela esquerda, de forma a dar a direita à parte central.

- a) Certo.
- b) Errado.



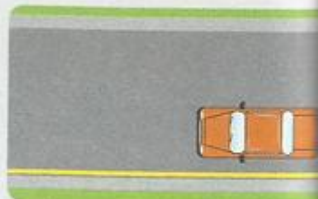
7 Regra geral, quando no mesmo sentido sejam possíveis duas ou mais filas de trânsito, este deve-se fazer pela via de trânsito mais à direita.

- a) Certo.
 b) Errado.



8 A linha contínua de cor amarela colocada no limite esquerdo da faixa de rodagem:

- a) Tem carácter temporário.
 b) Proíbe o estacionamento.
 c) É uma guia.



9 Em circulação, é necessário manter uma distância de segurança?

- a) Sim, mas apenas lateral.
 b) Sim, de forma a evitar acidentes em caso de súbita paragem ou redução de velocidade do veículo precedente.
 c) Não, uma vez que actualmente todos os veículos travam eficazmente.



10 Quanto mais elevada for a velocidade a que se circula, maior será a distância de paragem.

- a) Certo.
 b) Errado.



11 Dentro das localidades, o condutor deve ceder a passagem aos veículos de transporte colectivo de passageiros?

- a) Sim, sempre.
 b) Sim, quando os veículos de transporte colectivo de passageiros estejam a retomar a marcha à saída dos locais de paragem.
 c) Não.



12 Como não circula ninguém à minha retaguarda, não estou obrigado a sinalizar a manobra de mudança de direcção.

- a) Certo.
 b) Errado.



13 A distância de segurança depende da velocidade a que circulo.

- a) Certo.
 b) Errado.



14 Neste local:

- a) Devo circular a uma velocidade superior a 50 km/h.
 b) Devo circular sempre colocado junto ao eixo da faixa de rodagem.
 c) Devo circular com velocidade moderada.



15 Faz parte do sistema de suspensão:

- a) Embraiagem.
- b) Molas.
- c) Diferencial.



16 A proibição imposta pelo sinal de trânsito proibido aplica-se:

- a) A todos os veículos.
- b) A todos os automóveis.
- c) A todos os veículos, excepto velocípedes conduzidos à mão.




17 Em circulação, devo ter em consideração:

- a) Unicamente a distância que guardo do veículo que circula à minha frente.
- b) Apenas a distância lateral.
- c) Todas as distâncias a manter em relação aos outros veículos.



18 As setas marcadas no pavimento:

- a) Orientam o sentido de trânsito.
- b) Obrigam a seguir pelo sentido indicado pela seta.
- c) Permitem ao condutor a selecção de uma via de trânsito.



19 Ao sair de um caminho particular, o condutor do veículo verde:

- a) Deve ceder a passagem.
- b) Tem prioridade de passagem.
- c) Deve ceder a passagem a todos os veículos a motor.



20 A distância de paragem é influenciada:

- a) Unicamente pelas condições de aderência do pneumático à via.
- b) Somente pela ingestão de bebidas alcoólicas.
- c) Pela ingestão de bebidas alcoólicas e condições atmosféricas.



21 Perante a sinalização, o condutor encontra-se:

- a) Obrigado a seguir em frente.
- b) Proibido de inverter a marcha.
- c) Proibido de parar ou estacionar do lado esquerdo da faixa de rodagem.



22 Verifica-se maior desgaste no centro do pneumático quando:

- a) A pressão é inferior à recomendada.
- b) A pressão é a recomendada.
- c) A pressão é superior à recomendada.



23 A correcta afinação do motor:

- a) Permite a emissão de gases em quantidade superior à recomendada.
- b) Evita que sejam emitidos gases em quantidade superior à recomendada.
- c) Permite a emissão de oxigénio.



24 Nesta situação, o condutor deve:

- a) Parar perante o sinal de STOP e de seguida avançar.
- b) Parar e ceder passagem a todos os veículos a motor.
- c) Avançar.



25 Regra geral, a entrada e saída do condutor deve ser feita pela esquerda do veículo.

- a) Certo.
- b) Errado.



26 Encontro-me perante um sinal de:

- a) Informação.
- b) Obrigação.
- c) Cedência de passagem.



27 No caso de avaria das luzes de um motociclo, o condutor deve:

- a) Continuar a marcha normalmente.
- b) Fazer a condução do veículo à mão.
- c) Deve chamar as entidades reguladoras de trânsito.



28 É contravenção grave, com inibição de conduzir 1 ano, quando a condução sob influência de álcool tem uma taxa de álcool no sangue (TAS):

- a) De 0,30 mg/l até 0,40 mg/l.
- b) De 0,10 mg/l até 0,20 mg/l.
- c) De 0,20 mg/l até 0,30 mg/l.



29 A não utilização do sinal de pré-sinalização de perigo e das luzes avisadoras de perigo constitui contravenção:

- a) Leve.
- b) Grave.
- c) Média.



30 Em caso de avaria ou acidente, o condutor deve:

- a) Retirar o veículo da faixa de rodagem.
- b) Telefonar para a oficina reparadora.
- c) Retirar o veículo da faixa de rodagem e sinalizar devidamente o local.



TESTE 08



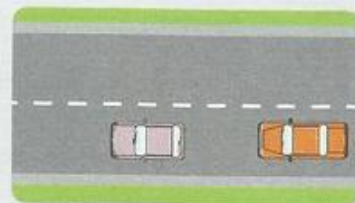
1 O contorno de placas pode ser feito pela direita, de forma a dar a esquerda à parte central?

- a) Sim, nas vias de sentido único.
- b) Não, nunca.
- c) Não, excepto para mudar de direcção à esquerda.



2 A distância que existe entre o meu veículo e o veículo que segue à minha frente diminui se:

- a) Mantiver a velocidade.
- b) Aumentar a velocidade.
- c) Reduzir a velocidade.



3 Para a realização de uma manobra devo:

- a) Apenas assinalá-la com a necessária antecedência.
- b) Manter o sinal activo e cessar logo que a manobra esteja concluída.
- c) Apenas manter o sinal activo durante a manobra.



4 Esta seta marcada no pavimento indica a aproximação de:

- a) Um local perigoso.
- b) Obrigação de virar à esquerda.
- c) Uma curva para a esquerda.



5 A diminuição de aderência provoca o aumento da distância de travagem. Perante estas circunstâncias devo:

- a) Aumentar a velocidade.
- b) Manter a velocidade.
- c) Diminuir a velocidade.



6 A presença de peões obriga a moderar a velocidade?

- a) Sim, mas apenas os idosos e crianças.
- b) Sim.
- c) Não, porque os peões não interferem na velocidade.



7 A condução sob efeito de condições atmosféricas adversas pode prejudicar a distância de travagem.

- a) Certo.
 b) Errado.



8 Posso utilizar os sinais sonoros:

- a) Como forma de manifestação ou protesto.
 b) Só em caso de perigo iminente.
 c) Quando transito fora de uma localidade, para prevenir um condutor da minha intenção de o ultrapassar.



9 Como deve ser sinalizado o veículo rebocado?

- a) Com o sinal de reboque.
 b) Com o painel de cor laranja de marcha lenta.
 c) Com as luzes de perigo acesas.



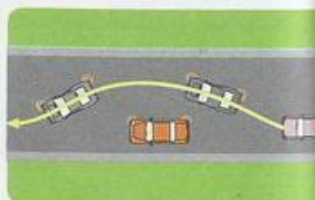
10 A manobra de marcha-atrás:

- a) Apenas é autorizada como manobra de recurso.
 b) Deve ser feita no menor trajecto possível.
 c) Deve ser efectuada sempre que necessário.



11 Ao ser ultrapassado devo:

- a) Moderar a velocidade.
 b) Diminuir a velocidade, a fim de facilitar a manobra.
 c) Manter a velocidade e alterar a trajectória para a esquerda.



12 Regra geral, a manobra de ultrapassagem:

- a) É permitida sempre.
 b) É efectuada pela direita.
 c) É proibida em todas as curvas.



13 O sinal de pré-sinalização de perigo é obrigatório?

- a) Em todos os veículos em circulação.
 b) Não, apenas é obrigatório um colete retrorreflector.
 c) Sim, para utilização a 30 metros e visível a 100 metros.



14 Ao mudar de direcção à esquerda, o condutor deve:

- a) Efectuar a manobra no menor trajecto possível.
 b) Efectuar a manobra no maior trajecto possível.
 c) Assinalar com a devida antecedência a sua intenção e colocar-se no eixo da faixa de rodagem.



15 Nas auto-estradas é permitido:

- a) Parar ou estacionar.
- b) Ultrapassar pela direita.
- c) Fazer marcha-atrás.



16 É proibido o trânsito de veículos em auto-estrada:

- a) Que sejam automóveis.
- b) Que sejam motociclos.
- c) Que sejam ciclomotores.



17 O condutor de automóvel que não está habilitado para tal incorre numa pena de prisão de:

- a) 3 dias a 6 meses.
- b) 6 dias a 6 meses.
- c) 3 dias a 6 meses e multa de 5000,00 MT.



18 Perante a sinalização, não podem prosseguir a marcha veículos que sejam:

- a) Apenas automóveis pesados de mercadorias.
- b) Automóveis de mercadorias.
- c) Automóveis de passageiros.



19 O título de condução é cassado a um condutor quando:

- a) For aplicada a sanção acessória pela prática ou contravenção média ou grave e tenha nos últimos 5 anos sido sancionado pela prática de 3 contravenções graves.
- b) For aplicada a sanção acessória pela prática ou contravenção média ou grave e tenha nos últimos 5 anos sido sancionado pela prática de 2 contravenções graves.
- c) For aplicada a sanção acessória pela prática ou contravenção e tenha nos últimos 5 anos sido sancionado pela prática de 5 contravenções graves e médias.



20 O sinal de proibição impede o trânsito a:

- a) Veículos de mercadorias com mais de 15 metros de comprimento.
- b) Veículos pesados de mercadorias com mais de 15 metros de comprimento.
- c) Veículos ou conjunto de veículos de comprimento superior a 15 metros.



21 O condutor de veículo a motor, sempre que transite na via pública, deve ser portador dos seguintes documentos:

- a) Bilhete de identidade, carta de condução e certificado de matrícula.
- b) Bilhete de identidade, carta de condução e certificado de matrícula, título de registo de propriedade e ficha de inspeção periódica, quando obrigatório.
- c) Bilhete de identidade, certificado de matrícula, título de registo de propriedade e ficha de inspeção periódica.



22 Este sinal proíbe a ultrapassagem a todos os veículos.

- a) Certo.
- b) Errado.



23 Perante a sinalização:

- a) É permitido parar.
- b) É proibido parar.
- c) É proibido parar e estacionar.



24 Perante a sinalização não posso:

- a) Inverter a marcha.
- b) Fazer marcha-atrás.
- c) Parar e estacionar.



25 Um condutor habilitado com categoria B está autorizado a conduzir:

- a) Um automóvel, com um peso bruto não superior a 3500 kg.
- b) Um automóvel, com peso bruto superior a 3500 kg.
- c) Um automóvel, com peso bruto superior a 3500 kg e lotação até 9 lugares, incluindo o condutor.



26 Para efeitos de circulação, considera-se veículo único.

- a) O veículo pesado de passageiros com reboque.
- b) Um comboio turístico.
- c) O conjunto de veículo e reboque.



27 Posso mudar de direcção à direita?

- a) Sim.
- b) Não.



28 A carta de condução da categoria A1 habilita a conduzir:

- a) Ciclomotor com ou sem carro lateral para passageiros de cilindrada não superior a 125 cm³.
- b) Ciclomotor com ou sem carro lateral para passageiros de cilindrada superior a 125 cm³.
- c) Ciclomotor com ou sem carro lateral para passageiros.



29 É obrigatório acender as luzes de médios nos túneis?

- a) Sim, sempre.
- b) Sim, desde que sinalizados como tal.
- c) Não, só quando existe o sinal de obrigação.



30 O veículo pode ser apreendido quando:

- a) Circule na via pública com os números de matrícula legível.
- b) Circule na via pública com seguro de responsabilidade civil expirado.
- c) Circule na via pública com chapas de matrícula.



TESTE 09



1 Os sinais sonoros devem ser substituídos por sinais de luzes:

- a) Sempre que se circule numa localidade à noite.
- b) Sempre que se circule numa via bem iluminada.
- c) Sempre.



2 A velocidade deve ser tida em consideração na condução nocturna.

- a) Errado.
- b) Certo.



3 O condutor deve ceder a passagem ao veículo dos bombeiros?

- a) Sim, porque o veículo dos bombeiros circula em missão urgente de socorro.
- b) Não, porque o veículo dos bombeiros acede a uma auto-estrada.
- c) Sim, em qualquer circunstância.



4 De que cor são as luzes de travagem?

- a) Vermelhas.
- b) Vermelhas ou alaranjadas.
- c) Vermelhas e amarelas.



5 As luzes de nevoeiro são obrigatórias nos automóveis:

- a) À frente.
- b) À retaguarda.
- c) À frente e à retaguarda.



6 As luzes de presença:

- a) Iluminam a 150 metros.
- b) Sinalizam o veículo a 150 metros.
- c) Iluminam 30 metros.



7 A sinalização presente indica:

- a) Intersecção com sentido giratório.
- b) Obrigação de contornar a placa pela esquerda.



8 Como devo proceder no entroncamento de que me aproximo?

- a) Avançar sem precauções, dado ter o direito de passar em primeiro lugar.
- b) Avançar, verificando se os condutores que circulam na via com que me cruzo me cedem a passagem.
- c) Ceder a passagem aos veículos que se apresentem pela direita.



9 Um automóvel ligeiro de passageiros deve apresentar-se à primeira inspecção periódica obrigatória:

- a) Um ano após a data da primeira matrícula.
- b) Dois anos após a data da primeira matrícula.
- c) Quatro anos após a data da primeira matrícula.



10 Este sinal indica:

- a) Aproximação de estrada com prioridade.
- b) Paragem aconselhada.
- c) Paragem obrigatória.



11 A aplicação da inibição de condução acontece:

- a) Sempre.
- b) Sempre que o condutor pratique uma contravenção.
- c) Sempre que o condutor pratique uma contravenção média ou grave.



12 Nesta situação, o condutor, ao mudar de direcção à esquerda, deve ceder a passagem ao ciclista?

- a) Sim, pois o ciclista apresenta-se pela direita.
- b) Sim, se o ciclista não respeitar a regra da cedência de passagem e originar uma situação de perigo.
- c) Não.



13 É proibido o estacionamento:

- a) A menos de 20 metros das paragens dos veículos afectos ao transporte público de passageiros.
- b) A menos de 20 metros dos sinais luminosos colocados à entrada dos cruzamentos ou entroncamentos.
- c) A mais de 5 metros das passagens assinaladas para a travessia de peões.



14 Posso utilizar os sinais sonoros dentro de uma localidade à noite?

- a) Sim, mas apenas porque circulo em missão urgente de socorro.
- b) Não, devo utilizar os sinais luminosos.
- c) Sim, porque circulo dentro de uma localidade.



15 O veículo à minha esquerda sai de um caminho particular. Como devo proceder?

- a) Parar e ceder a passagem, pois apresenta-se pela direita.
- b) Diminuir a velocidade e avançar com precaução.
- c) Ceder a passagem.



16 Quando diminuo a velocidade:

- a) A distância de paragem diminui.
- b) A distância de paragem aumenta.
- c) A distância de paragem não sofre qualquer alteração.



17 O que indica este sinal?

- a) Obrigatório contornar placa ou obstáculo.
- b) Proíbe a manobra de inversão do sentido de marcha.
- c) Uma via que permite a manobra de inversão do sentido de marcha.



18 Nos cruzamentos e entroncamentos devemos:

- a) Utilizar sinais sonoros.
- b) Circular pela direita, por forma a dar a esquerda à placa central quando no eixo da faixa de rodagem.
- c) Circular pela esquerda, por forma a dar a direita à placa central quando no eixo da faixa de rodagem.



19 Nesta situação, o condutor do automóvel deve transitar com:

- a) As luzes de perigo.
- b) As luzes de presença, porque é dia.
- c) As luzes de máximos, porque as condições atmosféricas são adversas.
- d) Velocidade especialmente moderada.



20 A paragem ou estacionamento nas passagens assinaladas para a travessia de peões:

- a) É permitido.
- b) Constitui contravenção grave.
- c) É sancionado com coima.



21 No registo de contravenções do condutor constam:

- a) Apenas contravenções leves.
- b) Apenas contravenções médias e graves.
- c) Todas as contravenções leves, médias e graves praticadas e respectivas sanções.



22 Quem conduzir um veículo a motor estando inibido de o fazer é punido por crime de desobediência.

- a) Certo.
- b) Errado.



23 O condutor de automóvel que não está habilitado para tal incorre numa pena de prisão de:

- a) 3 dias a 6 meses.
- b) 6 dias a 6 meses.
- c) 3 dias a 6 meses e multa de 5000,00 MT.



24 Este sinal indica:

- a) Obrigação de ceder a passagem.
- b) Que existe um cruzamento com estrada com prioridade.
- c) Que existe um cruzamento com estrada sem prioridade.



25 Os veículos em missão urgente de socorro estão obrigados a suspender a sua marcha:

- a) Nas passagens de nível.
- b) Perante sinal de paragem obrigatória.
- c) Em todos os cruzamentos ou entroncamentos.



26 Entende-se por velocidade instantânea:

- a) A velocidade percorrida em determinado percurso.
- b) A velocidade do veículo em determinado momento.
- c) A velocidade adequada para não exceder os limites de velocidade.



27 Qual a altura máxima de um veículo?

- a) 2,55 metros a contar do solo.
- b) 3 metros a contar do solo.
- c) 4,30 metros a contar do solo.



28 Esta via é uma auto-estrada.

- a) Certo.
- b) Errado.



29 Um veículo é reprovado na inspeção periódica obrigatória, quando se verificarem:

- a) 15 deficiências do Tipo I.
- b) 1 ou mais deficiências do Tipo III.
- c) 4 deficiências do Tipo II.




30 Faz parte dos equipamentos de segurança activa:

- a) Sistema de travagem ABS.
- b) Airbag.
- c) Capacete de protecção.



TESTE 10



1 A aquaplanagem é:

- a) A perda de aderência dos pneus.
- b) O excesso de água sobre o pavimento.
- c) A redução de visibilidade provocada pela chuva.



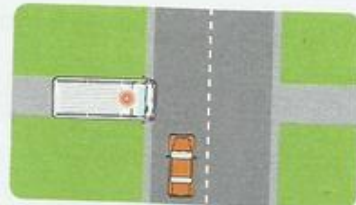
2 A ambulância deve parar junto do sinal STOP?

- a) Não, porque assinala marcha de socorro.
- b) Não, porque é um veículo que circula sempre em urgência.
- c) Sim, sempre.



3 A ambulância sai de um caminho particular assinalando adequadamente a sua marcha. Devo:

- a) Avançar, porque a ambulância sai de um caminho particular.
- b) Parar e ceder passagem.
- c) Parar, porque se apresenta pela direita.



4 A circulação em marcha lenta que cause embaraço injustificado aos utentes da via pública é punida pelo Código da Estrada.

- a) A afirmação é falsa.
- b) A afirmação é verdadeira.



5 A circulação sob condições atmosféricas adversas afecta:

- a) A distância de travagem.
- b) A taxa de alcoolemia.



6 A decisão que tomo perante cada situação como condutor:

- a) Depende exclusivamente da sinalização que encontro no local.
- b) É consequência unicamente da intensidade do trânsito.
- c) É sempre influenciada pela previsão que faço.



7 A interdição de acesso à via pública onde está colocado o sinal vertical está relacionada com:

- a) O peso das mercadorias transportadas pelos veículos.
- b) O peso total dos veículos.
- c) O tipo de mercadorias transportadas pelos veículos.
- d) A altura, largura e comprimento dos veículos.



8 A existência de circunstâncias anormais de trânsito pode levar à proibição temporária ou permanente da circulação de certos veículos.

- a) A afirmação é falsa.
- b) A afirmação é verdadeira.



9 A partir do local em que este sinal se encontra colocado, o motociclista:

- a) Apenas está autorizado a proceder à ultrapassagem de automóveis ligeiros.
- b) É obrigado a circular junto ao eixo da faixa de rodagem.
- c) Está proibido de realizar a manobra de ultrapassagem.



10 A sinalização de carácter temporário apenas pode ser utilizada quando os trabalhadores procedem à realização de obras na via pública.

- a) A afirmação é falsa.
- b) A afirmação é verdadeira.



11 A via de aceleração permite que os condutores:

- a) Não tenham que ceder a passagem aos veículos que circulam na via.
- b) Reduzam a velocidade de circulação.
- c) Regulem a velocidade de circulação.



12 As indicações dadas pela sinalização temporária prevalecem sobre os sinais verticais e marcas rodoviárias?

- a) Não, excepto as marcas rodoviárias.
- b) Não, excepto os sinais verticais.
- c) Sim.



13 Ao circular numa rotunda, dentro ou fora de uma localidade, devo tomar a via de trânsito mais conveniente ao meu destino. Concorda com esta afirmação?

- a) Não.
- b) Sim.



14 Ao atravessarem a faixa de rodagem, os peões devem certificar-se de que o podem fazer sem perigo de acidente?

- a) Não, salvo se atravessarem a faixa de rodagem fora de uma passagem de peões.
- b) Não.
- c) Sim, sempre.



15 As pessoas que transitam de patins ou trotinetas devem fazer uso das pistas destinadas ao trânsito de velocípedes, quando existam.

- a) A afirmação é falsa.
- b) A afirmação é verdadeira.



16 Atendendo aos limites máximos de velocidade praticados nas auto-estradas, devo:

- a) Aumentar a distância de segurança.
- b) Diminuir a distância de segurança.
- c) Manter a mesma distância de segurança que guardava dentro das localidades.



17 A indicação dada pelo agente regulador de trânsito significa que devo:

- a) Avançar.
- b) Parar, unicamente se a minha intenção for seguir em frente.
- c) Parar.



18 A indicação dada pelo agente regulador de trânsito destina-se:

- a) Aos condutores à minha direita.
- b) Aos condutores à minha esquerda.
- c) Aos condutores que transitam na minha via de trânsito.



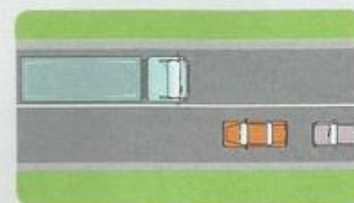
19 A linha branca no eixo da faixa de rodagem designa-se:

- a) Guia.
- b) Linha contínua de aviso.
- c) Linha descontinua.



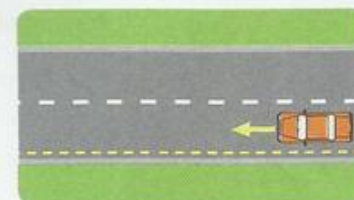
20 A linha contínua que separa os dois sentidos de trânsito indica-me que:

- a) Não posso pisar nem transpor a marca rodoviária.
- b) Posso pisar desde que não transponha a linha.
- c) Posso transpor a linha.



21 A linha descontinua amarela que se encontra à minha esquerda proíbe-me de:

- a) Estacionar.
- b) Parar e estacionar durante o dia.
- c) Estacionar no período indicado pelo sinal.



22 A luz de cor amarela não intermitente indica-me:

- a) A transição do verde para o vermelho.
- b) A transição do vermelho para o verde.



23 A partir deste momento, que luzes devo utilizar?

- a) Máximos.
- b) Médios.
- c) Mínimos.



24 A manobra de ultrapassagem é proibida nas curvas de visibilidade reduzida. Concorda com esta afirmação?

- a) Não.
- b) Sim.



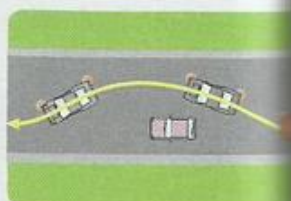
25 A sequência de pares de linhas transversais de cor branca que se encontram no pavimento serve para indicar aos condutores:

- a) A largura da via pública.
- b) O número de vias de trânsito no mesmo sentido.
- c) Que devem reduzir a velocidade.



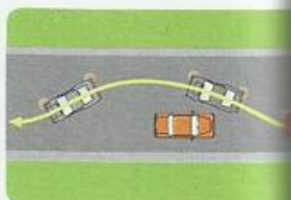
26 Antes de iniciar uma ultrapassagem, devo certificar-me de que:

- a) Posso efectuar a manobra no espaço de 50 metros à minha frente.
- b) Posso efectuar a manobra sem perigo.
- c) Posso fazer a manobra à velocidade mínima de 40 km/h.



27 Ao ser ultrapassado, devo:

- a) Circular a velocidade não superior a 60 km/h.
- b) Circular a velocidade não superior a 90 km/h.
- c) Desviar-me o mais possível para a esquerda.



28 Assim que um condutor termine a manobra de ultrapassagem, deve:

- a) Aumentar significativamente a velocidade.
- b) Ligar os médios para iluminar a faixa de rodagem.
- c) Retomar o lado esquerdo da faixa de rodagem em segurança.



29 Travar com motor significa:

- a) Desligar o motor, mantendo uma mudança engrenada.
- b) Engrenar uma mudança de força em andamento.
- c) Utilizar o motor de arranque como auxiliar de travagem.




30 A carga de um veículo pode ultrapassar, na largura, os contornos envolventes do veículo?

- a) Não.
- b) Sim, desde que não exceda 10 cm.
- c) Sim, desde que não exceda 20 cm.



TESTE 11



1 A carga mal acondicionada pode contribuir para:

- a) Aumentar o equilíbrio do veículo.
- b) Reduzir a visibilidade do condutor.
- c) Reduzir o tempo de reacção.



2 A condução defensiva tem como principal objectivo:

- a) A segurança rodoviária.
- b) Cumprir apenas o Código da Estrada.
- c) Ser sempre o primeiro a avançar.



3 A condução nocturna deve influenciar a velocidade a que circulo?

- a) Não, porque quando a visibilidade é menor devo ligar as luzes de estrada.
- b) Sim, porque eu nunca devo ligar as luzes de estrada.
- c) Sim, porque influencia a recolha de informação.



4 A distribuição da mercadoria é um factor essencial para manter o equilíbrio do veículo.

- a) Certo.
- b) Errado.



5 A luz branca, visível à retaguarda de um automóvel, indica que:

- a) O condutor está a efectuar a manobra de marcha-atrás.
- b) O condutor está a travar.
- c) O condutor vai mudar de direcção à direita.
- d) O veículo pode constituir perigo para os outros utentes.



6 Como devo proceder na presença deste sinal de perigo?

- a) Circular com prudência.
- b) Parar até que o perigo passe.
- c) Aumentar a velocidade de forma a evitar o perigo.



7 A prática de uma condução defensiva implica, em muitas situações:

- a) Que o condutor abdique dos seus direitos, a fim de evitar o acidente.
- b) Que o condutor aumente a velocidade, para ser o primeiro a avançar.
- c) Que o condutor não ceda a passagem, porque tem sempre o direito de avançar.



8 A marca rodoviária colocada no centro da intersecção:

- a) Obriga todos os condutores a parar antes do cruzamento.
- b) Proíbe todos os condutores de parar antes do cruzamento.
- c) Reforça uma regra de trânsito que impede a imobilização de qualquer veículo no centro da intersecção.



9 Como devo proceder perante este sinal vertical?

- a) Conduzir com especial precaução e, face à possibilidade de ventos fortes, imobilizar o veículo logo que possível.
- b) Conduzir com especial precaução, por estar próximo uma curva perigosa para a direita.
- c) Reduzir a velocidade, por estar perante uma descida perigosa.



10 Antes de iniciar qualquer manobra, devo:

- a) Certificar-me de que posso iniciar a marcha sem risco de acidente.
- b) Ligar as luzes de perigo, para assinalar a minha intenção.
- c) Utilizar os sinais sonoros.



11 A pressão dos pneus deve ser verificada:

- a) Depois de uma viagem, imediatamente após a imobilização do veículo.
- b) Durante a viagem.
- c) Regularmente.



12 Um automóvel sem matrícula pode transitar na via pública?

- a) Não, mesmo os veículos sem motor são obrigados a ter matrícula.
- b) Não, pois os veículos a motor e seus reboques são obrigados a ter matrícula.
- c) Sim, desde que a uma velocidade reduzida.



13 A verificação do nível do óleo pode ser feita pelo condutor?

- a) Não, porque esta verificação só pode ser feita por técnicos especializados.
- b) Sim, desde que mantenha o motor do veículo a trabalhar.
- c) Sim, desde que saiba a forma correcta de o verificar.



14 A verificação dos níveis do óleo e do líquido de refrigeração deve ser feita:

- a) Apenas quando no painel de instrumentos for dada essa indicação.
- b) Regularmente, pelo condutor.
- c) Sempre nas oficinas especializadas.



15 Ao transitar na via pública, o veículo de tracção animal está sujeito a matrícula?

- a) Não.
- b) Sim.



16 A sinalização existente no local indica:

- a) Proibição de parar.
- b) Paragem obrigatória.
- c) Que neste local não devo mudar de direcção.



17 Sempre que seja obrigado a reduzir de forma súbita a minha velocidade, devo utilizar as luzes de perigo. Esta afirmação é:

- a) Falsa.
- b) Verdadeira.



18 A sanção de inibição de conduzir, prevista pela prática de contravenção grave, tem duração mínima de:

- a) Doze meses, quando praticada pela 1.ª vez.
- b) Dois meses, quando praticada pela 1.ª vez.
- c) Um mês.



19 Este sinal adverte para:

- a) Descida com acentuada inclinação.
- b) Pavimento escorregadio.
- c) Subida com acentuada inclinação.



20 Apenas as infracções ao Código da Estrada classificadas de graves são punidas com inibição de conduzir. Concorda com esta afirmação?

- a) Não.
- b) Sim, de 1 ano quando praticada pela 1.ª vez.
- c) Sim, de 1 ano quando praticada pela 2.ª vez.



21 As crianças com menos de 12 anos de idade e menos de 150 cm de altura podem ser transportadas em automóvel apenas com o cinto de segurança?

- a) Não, devem ser seguras por sistema de retenção homologado e adaptado ao seu tamanho e peso.
- b) Sim, podem.



22 É obrigatório o seguro de responsabilidade civil de veículos a motor e seus reboques?

- a) Não, não é.
- b) Sim, é obrigatório o seguro de ocupantes do veículo.
- c) Sim, é obrigatório o seguro de responsabilidade civil pelos danos causados a terceiros.



23 O documento que habilita a condução de automóveis designa-se por:

- a) Carta de condução.
- b) Licença de condução.
- c) Licença especial de condução.



24 Para obtenção do título de condução que habilita à categoria B, é necessário ter no mínimo:

- a) 16 anos.
- b) 17 anos.
- c) 18 anos.



25 Posso circular na via pública com um veículo a motor sem ter efectuado seguro automóvel?

- a) Não, o veículo deve ser apreendido pelas autoridades.
- b) Sim, embora não seja aconselhável.
- c) Sim, mas apenas até ao local da minha residência.



26 Um condutor que circule com uma taxa de álcool no sangue superior a 0,8 g/l comete uma contravenção grave. Concorda com esta afirmação?

- a) Não.
- b) Sim, salvo se apresentar defesa.
- c) Sim.



27 Regra geral, o estacionamento abusivo implica:

- a) A apreensão dos documentos.
- b) A remoção do veículo.
- c) Uma contravenção grave.



28 A utilização de pneumáticos com pressão superior à recomendada pelo construtor provoca o desgaste prematuro:

- a) Da zona central do piso e diminui a aderência.
- b) Das zonas laterais do piso e diminui a aderência.
- c) Das zonas laterais do pneu e aumenta a aderência.



29 Um condutor habilitado com a carta de condução da categoria CE pode conduzir:

- a) Veículos articulados, cujo peso bruto do camião-tractor não exceda 3500 kg.
- b) Conjunto de veículos composto por veículo tractor com peso bruto superior a 16 000 kg e reboque superior a 750 kg.




30 A validade da carta de condução das categorias P, D e G é de:

- a) 5 anos.
- b) 2 anos.
- c) 10 anos.



TESTE 12



1 A partir deste sinal de perigo é proibido inverter o sentido de marcha.

- a) Certo.
- b) Errado.



2 A sinalização vertical indica que vou encontrar uma curva perigosa à direita e não devo exceder a velocidade de 80 km/h.

- a) Errado.
- b) Certo



3 Quando o veículo é aprovado em inspeção periódica obrigatória, é emitida uma vinheteta de cor:

- a) Vermelha.
- b) Verde.
- c) Amarela.



4 Como devo proceder face à informação dada pelo sinal vertical?

- a) Engrenar a primeira velocidade na depressão.
- b) Moderar especialmente a velocidade.
- c) Parar antes de cada lomba.
- d) Manter a velocidade e parar antes das lombas.



5 A luz que ilumina a chapa de matrícula deve tornar legível os seus dígitos a uma distância de:

- a) 20 metros.
- b) 30 metros.
- c) 40 metros.



6 Como devo proceder na presença deste sinal vertical?

- a) Buzinar para assinalar a minha presença.
- b) Circular à velocidade que me é permitido naquela via, mas assinalar a presença do meu veículo.
- c) Circular com especial cuidado e prudência.



7 Como devo proceder perante este sinal vertical?

- a) Circular com precaução, porque a circulação passa a ser feita nos dois sentidos.
- b) Moderar a velocidade perante a indicação de outros perigos.
- c) Passar para a via mais à direita.



8 A previsão e a antecipação que cada condutor faz deve depender principalmente:

- a) Da sua atitude.
- b) Da sua pressa.
- c) Do seu estado emocional.



9 Este sinal adverte para:

- a) Descida com acentuada inclinação.
- b) Pavimento escorregadio.
- c) Subida perigosa.



10 A utilização dos máximos de modo a provocar encandeamiento é considerada uma:

- a) Contravenção leve.
- b) Contravenção grave.
- c) Contravenção média.



11 A que tipo de peso se refere o sinal?

- a) Peso bruto.
- b) Peso total.
- c) Tara.



12 A indicação dada pelo sinal de informação variável:

- a) Não tem qualquer valor.
- b) Tem carácter facultativo.
- c) Tem carácter obrigatório.



13 A que veículos se destina a proibição constante do sinal?

- a) A todos os veículos de mercadorias.
- b) A todos os veículos pesados.
- c) A todos os veículos que transportem substâncias perigosas.



14 Qual a velocidade máxima para um veículo ciclomotor?

- a) 20 km/h.
- b) 60 km/h.
- c) 40 km/h.



15 As crianças continuam a ser vítimas de acidentes. Esta situação poderia ser evitada se fossem correctamente transportadas.

- a) Certo.
- b) Errado.



16 A sinalização indica:

- a) É proibido o trânsito a pesados e automóveis.
- b) Saída perigosa a 7 km.
- c) Descida perigosa por 7 km.



17 Circulo com velocidade excessiva:

- a) Quando não consigo parar o veículo em condições de segurança.
- b) Apenas se exceder os limites de velocidade legalmente estabelecidos.
- c) Quando a velocidade é controlada.



18 A ingestão de determinados medicamentos pode ser tão perigosa para a condução como a ingestão de bebidas alcoólicas.

- a) Certo.
- b) Errado.



19 A forma como o condutor utiliza o veículo influencia a sua conservação?

- a) Não, não tem qualquer influência.
- b) Sim.
- c) Sim, mas apenas em vias com más condições de aderência.



20 Ao encontrar este sinal, fico a saber que:

- a) A faixa de rodagem tem um estreitamento apenas do lado direito.
- b) A via de trânsito em que circulo vai deixar de existir.
- c) Existe um estreitamento da via.



21 No cruzamento entre veículos à noite devo utilizar as luzes de:

- a) Médios.
- b) Mínimos.
- c) Máximos.



22 As crianças são utentes da via pública que requerem uma atenção especial?

- a) Não, uma vez que só podem utilizar os passeios para circularem.
- b) Sim, devido aos seus comportamentos imprevisíveis.
- c) Sim, uma vez que têm mais capacidade de previsão.



23 A marca rodoviária proíbe a paragem?

- a) Não, nunca proíbe.
- b) Sim, se a paragem se destinar a operações de carga e descarga.
- c) Sim, se a paragem se destinar à entrada ou saída de passageiros.




24 A visão em túnel traduz-se na perda:

- a) Da visão lateral.
- b) Da visão cromática.
- c) Da visão estereoscópica.



25 Qual a velocidade máxima permitida para um ligeiro misto dentro das localidades?

- a) 50 km/h.
- b) 60 km/h.
- c) 70 km/h.



26 A sinalização da via indica que determinados veículos:

- a) Estão obrigados a circular nesse sentido.
- b) Não podem circular nessa via.
- c) Não podem circular nesse sentido.



27 Considera-se excesso de velocidade:

- a) Sempre que o condutor não consegue fazer parar o veículo no espaço livre e visível à sua frente.
- b) Sempre que o condutor excede os limites de velocidade.



28 A almofada de *airbag* é um elemento de segurança:

- a) Passiva.
- b) Activa.



29 O condutor encontra-se:

- a) Num cruzamento.
- b) Num entroncamento.
- c) Numa rotunda.



30 A lotação máxima de um automóvel ligeiro de passageiros, incluindo o lugar do condutor:

- a) É de 8 lugares
- b) É de 9 lugares.
- c) É de 5 lugares.



TESTE 13



1 Posso considerar determinadas manobras perigosas?

- a) Sim, todas as que forem realizadas nas auto-estradas ou vias equiparadas.
- b) Não, se forem realizadas com alguma destreza e brevidade.
- c) Sim, qualquer manobra que seja realizada de maneira imprudente.



2 Quem tem o dever de ceder a passagem nesta situação?

- a) O veículo que circula na rotunda, porque à sua direita apresenta-se um automóvel.
- b) O veículo que entra na rotunda.



3 Para regular a paragem e o estacionamento, podem utilizar-se marcas rodoviárias de cor amarela?

- a) Sim.
- b) Não.
- c) Não, porque todas as marcas rodoviárias de cor amarela são de carácter temporário.




4 O condutor aproxima-se de um cruzamento ou entroncamento em que:

- a) Tem sempre prioridade de passagem.
- b) Deve ceder a passagem aos veículos motorizados.
- c) Deve reduzir a velocidade e observar a regra geral de cedência de passagem.



5 É proibido estacionar de modo a causar embaraço para o trânsito?

- a) Sim, é sempre proibido.
- b) Sim, dentro das localidades.
- c) Não.



6 O sinal vertical de regulamentação proíbe a manobra de ultrapassagem a todos:

- a) Os automóveis pesados.
- b) Os automóveis pesados de mercadorias.
- c) Os automóveis de mercadorias.



7 A chuva origina na condução:

- a) Redução de visibilidade.
- b) Redução da distância de paragem.
- c) Aumento da aderência ao pavimento.



8 Quando pretende mudar de via de trânsito, o condutor é obrigado a assinalar a sua intenção?

- a) Sim.
- c) Não.



9 De que cor são as luzes de mudança de direcção?

- a) Amarela ou laranja.
- b) Branca ou laranja.
- c) Laranja.



10 Considera-se automóvel pesado um veículo com mais de 3500 kg de peso bruto.

- a) Certo.
- b) Errado.



11 Qual o comprimento máximo para um veículo de dois ou mais eixos?

- a) 10 metros.
- b) 13 metros.
- c) 15 metros.



12 A variação da taxa de alcoolemia no sangue (TAS) num indivíduo está directamente ligada a factores:

- a) Apenas internos.
- b) Internos e externos.
- c) Apenas externos.



13 A condução sob influência de medicamentos pode originar:

- a) Sonolência.
- b) Maior capacidade de vigilância.



14 Na rotunda, o condutor pode dar a sua esquerda à parte central?

- a) Sim, pode.
- b) Não, nunca pode.



15 Num cruzamento ou entroncamento sem sinalização devo ceder a passagem aos veículos que se desloquem sobre carris.

- a) Sim.
- b) Não.



16 Estando o outro veículo mais próximo do local em que o cruzamento é possível, quem deve recuar?

- a) Eu.
- b) O outro veículo.



17 Após o sinal vertical de informação, os limites de velocidade:

- a) São superiores.
- b) Aumentam, sendo o limite máximo de velocidade de 120 km/h para todos os veículos.
- c) Mantêm-se, se o condutor circular numa via reservada a automóveis e motociclos.



18 A velocidade máxima para um automóvel ligeiro de mercadorias com reboque dentro de uma localidade é de:

- a) 50 km/h.
- b) 60 km/h.
- c) 70 km/h.



19 Apenas automóveis e motociclos com cilindrada superior a 50 cm³ podem circular numa auto-estrada.

- a) Certo.
- b) Errado.




20 A audição é o sentido mais importante na tarefa da condução.

- a) A afirmação está correcta.
- b) A afirmação está incorrecta.



21 A via pública destina-se ao trânsito de peões?

- a) Sim, mas só se não houver passeios.
- b) Não, porque na via pública apenas podem circular veículos.
- c) Sim, de peões, de animais e de veículos.



22 De que modo o condutor pode ajudar a proteger o ambiente?

- a) Através do uso sistemático dos travões.
- b) Fazendo, durante a sua condução, acelerações e travagens bruscas.
- c) Realizando uma condução económica.



23 Um painel adicional junto de um sinal de perigo:

- a) Obriga a um procedimento.
- b) Indica ao condutor um procedimento.



24 Os sistemas de retenção para crianças são um equipamento de segurança:

- a) Passiva.
- b) Activa.



25 Quando o pavimento se encontra molhado, a aderência diminui. Então, a velocidade:

- a) Deve ser aumentada.
- b) Não deve ser modificada.
- c) Deve ser especialmente moderada.



26 Pratico uma condução defensiva:

- a) Se nunca ultrapassar.
- b) Se transitar sempre na via mais à direita.
- c) Quando adapto a condução às condições de trânsito.



27 É considerado estacionamento:

- a) Sempre que o tempo de paragem for superior a 15 minutos.
- b) Sempre que o condutor não esteja pronto a retomar a marcha se necessário.
- c) Se for para efectuar cargas e descargas.



28 O sinal de obrigação indica ao condutor:

- a) Sentido obrigatório.
- b) Obrigação de contornar a placa.
- c) Obrigação de mudar de direcção.



29 Um condutor sabe que nos locais de visibilidade reduzida ou insuficiente:

- a) Pode estacionar, mas não pode parar.
- b) Não pode parar nem estacionar.
- c) Não pode parar, mas pode estacionar.



30 A elevada ingestão de bebidas alcoólicas é susceptível de provocar um aumento do campo visual?

- a) Sim.
- b) Não.



TESTE 14



1 A condução com uma taxa de álcool no sangue igual ou superior a 0,6 g/l constitui contração média.

- a) A afirmação é verdadeira.
- b) A afirmação é falsa.



2 O estreitamento do campo de visão constitui um dos principais efeitos do álcool na condução?

- a) Sim.
- b) Não.




3 A capacidade de distinguir as cores designa-se por:

- a) Visão cromática.
- b) Visão estereoscópica.
- c) Visão em túnel.



4 É obrigatória a utilização do capacete de protecção?

- a) Sempre que transito num veículo a motor.
- b) Sempre que transito num veículo de caixa rígida.
- c) Sempre que transito num veículo de duas rodas.



5 A ordem de funcionamento do sistema principal de luzes é:

- a) Verde, vermelho, amarelo.
- b) Amarelo, verde, vermelho.
- c) Amarelo, vermelho, verde.



6 Perante este sinal:

- a) O trânsito passa-se a efectuar nos dois sentidos.
- b) O trânsito passa-se a efectuar num sentido.
- c) Tenho prioridade de passagem.



7 Os ciclomotores podem transitar nas auto-estradas?

- a) Sim, sempre.
- b) Não, nunca.
- c) Sim, de dia.



8 Para circular, devo utilizar o lado direito da faixa de rodagem?

- a) Como regra geral.
- b) Só quando houver veículos em sentido contrário.
- c) Apenas para a manobra de ultrapassagem.



9 Quanto menor for a visibilidade, a velocidade deve ser:

- a) Maior.
- b) Apenas adaptada às características do veículo que conduzo.
- c) Menor.



10 O aumento da acuidade visual constitui um dos principais efeitos do álcool na condução.

- a) Certo.
- b) Errado.



11 Num estreitamento da faixa de rodagem, deve ceder a passagem:

- a) O veículo que sobe.
- b) Um ligeiro perante um pesado.
- c) O veículo que chega depois.



12 De noite, dentro de uma localidade bem iluminada, posso circular apenas com as luzes de presença.

- a) A afirmação é verdadeira.
- b) A afirmação é falsa.



13 Perante a sinalização, o condutor.

- a) Pode mudar de direcção.
- b) Não pode mudar de direcção.



14 Quem é o responsável pela não utilização do cinto de segurança?

- a) O proprietário do veículo.
- b) O passageiro.
- c) Sempre o condutor.



15 Perante o sinal de obrigação:

- a) Sou obrigado a seguir em frente.
- b) Fico impedido de inverter a marcha.
- c) Passo a transitar numa via de sentido único.



16 O sinal proíbe o trânsito:

- a) Apenas a automóveis pesados de mercadorias.
- b) A tractores agrícolas.
- c) A automóveis ligeiros de mercadorias.



17 Os peões são obrigados a respeitar a ordem dada pelo sinal?

- a) Sim, mas só quando se aproximem veículos.
- b) Não.
- c) Sim, sempre.




18 O sinal vertical permite a ultrapassagem a:

- a) Automóveis pesados de passageiros.
- b) Automóveis pesados de mercadorias.
- c) Automóveis ligeiros.



19 A visão nocturna diminui:

- a) A visão.
- b) A visibilidade.
- c) A visão e a visibilidade.



20 A falha humana constitui o factor dominante nos acidentes rodoviários.

- a) Certo.
- b) Errado.



21 Perante o sinal verde do sistema principal de luzes, o condutor:

- a) Tem a passagem sempre autorizada, na zona regulada pelo sinal.
- b) Tem a passagem autorizada na zona regulada pelo sinal, salvo se for previsível ficar imobilizado no centro da intersecção.



22 Nas pontes, é proibido:

- a) Parar e estacionar.
- b) Parar, mas não estacionar.
- c) Estacionar, mas não parar.



23 O sinal indica:

- a) Passagem de nível.
- b) Ponte móvel.
- c) Cais ou precipício.



24 O sinal vertical é de:

- a) Perigo.
- b) Cedência de passagem.
- c) Informação.



25 Pretendendo mudar de direcção à direita, devo aproximar o veículo do eixo da faixa de rodagem:

- a) No local da mudança de direcção.
- b) Com a devida antecedência, atendendo às condições de circulação.
- c) A uma distância máxima de 20 metros.



26 O sinal de informação indica:

- a) Parque de estacionamento para autocarros.
- b) Área reservada para autocarros.
- c) Faixa de rodagem para autocarros.



27 Qual dos seguintes factores motiva um aumento da distância de paragem?

- a) Uma subida de inclinação acentuada.
- b) A fadiga do condutor.
- c) A largura da faixa de rodagem.



28 Para que serve este sinal?

- a) Para indicar a supressão de via de trânsito.
- b) O número e sentidos das vias de trânsito.



29 Os automóveis com uma lotação superior a 10 lugares designam-se:

- a) Automóveis ligeiros de passageiros.
- b) Automóveis mistos de passageiros.
- c) Automóveis pesados de passageiros.



30 O sinal de indicação transmite:

- a) Passagem de peões.
- b) A recomendação de circular a velocidade moderada.
- c) A obrigação de parar.



TESTE 15



1 Todas as infracções cometidas em auto-estradas constituem contravenção grave.

- a) Sim.
- b) Não.
- c) Sim, excepto a paragem na berma.



2 Qual destes elementos mais contribui para provocar acidentes?

- a) A via.
- b) O Homem.
- c) O veículo.



3 Perante este sinal, um motociclista:

- a) Não pode ultrapassar apenas os automóveis ligeiros.
- b) Não pode utilizar a via de trânsito.
- c) Não pode ultrapassar.



4 É sempre proibido ultrapassar nas pontes e nos túneis.

- a) Certo.
- b) Errado.



5 Este sinal adverte-me para a aproximação:

- a) De uma curva à esquerda e contracurva.
- b) De uma sucessão de curvas perigosas, sendo a primeira à direita.
- c) De curvas perigosas sucessivas.



6 Tránsito a 70 km/h dentro de uma localidade.

- a) Pratico uma contravenção grave.
- b) Pratico uma contravenção muito grave.
- c) Pratico excesso de velocidade.



7 Em condições atmosféricas adversas, devo aumentar:

- a) A distância de travagem.
- b) A distância de reacção.
- c) A distância de segurança.



8 Na entrada e saída de passageiros, um dos cuidados a ter é a total imobilização do veículo.

- a) Certo.
- b) Errado.



9 Nesta situação, não posso:

- a) Inverter o sentido de marcha.
- b) Mudar de direcção à esquerda.
- c) Mudar de direcção à esquerda e inverter o sentido de marcha.



10 Sempre que o condutor mudar de domicílio, deverá comunicá-lo às autoridades competentes no prazo de:

- a) 30 dias.
- b) 20 dias.
- c) 10 dias.



11 Posso ultrapassar nesta situação?

- a) Sim, excepto quando se encontrem peões para atravessar a faixa de rodagem
- b) Não, nunca posso.



12 Sempre que se transite na via pública com um veículo a motor, o condutor deve ser portador de:

- a) Carta de condução.
- b) Ficha de inspecção.
- c) Livrete do veículo.



13 Na via onde esteja colocado este sinal, só podem circular:

- a) Autocarros médios.
- b) Automóveis ligeiros e pesados de passageiros.
- c) Veículos afectos ao transporte público de passageiros e veículos em missão urgente de socorro.



14 A atitude influencia a segurança rodoviária.

- a) Certo.
- b) Errado.



15 O sinal é de:

- a) Obrigação.
- b) Proibição.
- c) Cedência de passagem.



16 O sinal indica:

- a) Cruzamento com via com prioridade.
- b) Cruzamento ou entroncamento com via sem prioridade.
- c) Cruzamento.



17 Perante este sinal, devo ceder a passagem a todos os veículos:

- a) Sim.
- b) Não.
- c) Sim, mas a todos os veículos a motor.



18 Perante o sinal não podem transitar:

- a) Velocípedes.
- b) Automóveis pesados.
- c) Automóveis mistos.



19 Perante a ordem dada pelo agente regulador de trânsito:

- a) Devem avançar os veículos que se aproximam pela frente e pela retaguarda do agente.
- b) Devem parar os veículos que se aproximam pela retaguarda do agente e avançar os veículos que se aproximam pela frente.
- c) Devem parar os veículos que se aproximem pela frente e pela retaguarda do agente.



20 Os condutores devem circular a uma velocidade:

- a) Mínima de 20 km/h.
- b) Que cause perigo e embaraço para os restantes utentes da via pública.
- c) Que nunca cause perigo nem embaraço.
- d) Máxima de 60 km/h.



21 Esta marca rodoviária é uma linha descontínua de:

- a) Abrandamento.
- b) Aceleração.
- c) Escapatória.



22 Os veículos a motor que se apresentem pela esquerda numa intersecção de nível, regra geral:

- a) Têm o direito de avançar.
- b) Têm o dever de ceder a passagem.
- c) Têm de parar.




23 O sinal vertical indica:

- a) Prioridade nas passagens estreitas.
- b) Cedência de passagem nas passagens estreitas.
- c) Aproximação de estrada com prioridade.



24 A não sinalização da manobra de mudança de direcção constitui:

- a) Contravenção leve.
- b) Contravenção média.
- c) Contravenção grave.



25 Perante o sinal vertical, o condutor fica a saber que o vento lateral intenso:

- a) Incide da esquerda para a direita.
- b) Incide da direita para a esquerda.



26 A marcha-atrás pode ser considerada uma manobra de recurso?

- a) Sim.
- b) Não.



27 O sinal indica:

- a) Velocidade máxima permitida.
- b) Velocidade mínima obrigatória.
- c) Velocidade mínima recomendada.



28 É proibida a inversão do sentido de marcha:

- a) Nas rotundas.
- b) Nas pontes.
- c) Nas pontes e nas rotundas.



29 O sinal de perigo averte-me para a existência de um troço de via onde existe:

- a) Queda de pedras.
- b) Projecção de gravilha.
- c) Pavimento escorregadio.




30 Regra geral, a manobra de ultrapassagem:

- a) Deve ser realizada lentamente pelo lado esquerdo.
- b) Não deve ser realizada.
- c) Realiza-se pelo lado direito.



TESTE 16



1 O sinal indica:

- a) Circulação interdita a cavaleiros.
- b) Aproximação de local frequentado por cavaleiros.
- c) Pista obrigatória para cavaleiros.



2 Nos cruzamentos, entroncamentos e rotundas, o trânsito faz-se:

- a) Indistintamente, de forma a dar a direita ou a esquerda à parte central dos mesmos.
- b) De forma a dar a esquerda à parte central dos mesmos.
- c) De forma a dar a direita à parte central dos mesmos.



3 Se conduzir uma bicicleta à mão:

- a) Posso prosseguir a marcha após o sinal.
- b) Estou proibido de prosseguir a marcha após o sinal.



4 Nesta situação, posso ultrapassar pelo lado esquerdo?

- a) Sim, desde que a manobra seja realizada rapidamente.
- b) Não, a manobra de ultrapassagem só pode ser realizada pela direita.
- c) Sim, uma vez que o veículo precedente muda de direcção à direita, deixando livre o lado esquerdo da faixa de rodagem.



5 O sinal significa:

- a) Trânsito proibido a ciclistas.
- b) Pista obrigatória para ciclistas.
- c) Local frequentado por ciclistas.



6 A quantos metros posso parar de uma paragem de veículos de transporte colectivo de passageiros que não se desloquem sobre carris?

- a) 3 metros.
- b) 10 metros.
- c) 15 metros.



7 Fora das localidades, a velocidade máxima para um tractor agrícola é de:

- a) 20 km/h.
- b) 30 km/h.
- c) 40 km/h.



8 Este sinal serve para proibir o trânsito a:

- a) Motociclos simples.
- b) Motociclos e ciclomotores.
- c) Veículos de duas rodas.



9 Os mínimos são luzes do sistema de sinalização que permitem que o veículo seja visível a:

- a) 100 metros.
- b) 150 metros.
- c) 30 metros.



10 Nos túneis, os condutores estão proibidos de:

- a) Utilizar os sinais de luzes.
- b) Utilizar as luzes de estrada.
- c) Parar e estacionar.



11 Quando um condutor efectua uma manobra de mudança de direcção, é obrigado a ceder a passagem aos peões?

- a) Sim, mesmo que não exista passagem assinalada.
- b) Não.
- c) Não, excepto se existir uma passagem assinalada para peões.



12 O sinal proíbe:

- a) Estacionamento.
- b) Paragem.
- c) Paragem e estacionamento.



13 Ao entrar numa rotunda, devo ceder a passagem a todos os veículos que se apresentem pela direita.

- a) Certo.
- b) Errado.



14 É possível a prática de uma condução segura em condições atmosféricas adversas?

- a) Não, torna-se impossível.
- b) Sim, desde que sejam respeitados os limites de velocidade.
- c) Sim, desde que a circulação seja adaptada às condições atmosféricas adversas.



15 A condução sob influência do álcool e substâncias entorpecentes influencia negativamente a tarefa da condução.

- a) Errado.
- b) Certo.



16 Se conduzir um automóvel ligeiro de mercadorias sem reboque, qual a velocidade mínima permitida numa auto-estrada?

- a) 40 km/h.
- b) 50 km/h.
- c) 70 km/h.



17 Que distância devem atingir os máximos, de noite, em condições climatéricas normais?

- a) Pelo menos 100 metros.
- b) Pelo menos 150 metros.
- c) Pelo menos 30 metros.



18 Devo utilizar os médios sempre que circule:

- a) Da aurora ao crepúsculo.
- b) Numa via de sentido reversível.
- c) Numa passagem inferior.



19 Nesta situação, o condutor do veículo rosa:

- a) Deve avançar porque se apresenta pela direita.
- b) Tem o direito de avançar em primeiro lugar.
- c) Deve ceder a passagem.




20 Quando, em circulação, o condutor que utiliza as luzes de estrada por forma a provocar encandeamento comete uma contravenção grave.

- a) Certo, ficando o condutor inibido de conduzir 1 ano, quando pela 2.ª vez.
- b) Certo, ficando o condutor inibido de conduzir 2 anos, quando pela 1.ª vez.
- c) Certo, ficando o condutor inibido de conduzir 1 ano, quando pela 1.ª vez.



21 As setas marcadas no pavimento indicam que:

- a) Existe uma via de sentido reversível.
- b) Existem duas vias de sentido reversível.
- c) Existem três vias de sentido reversível.



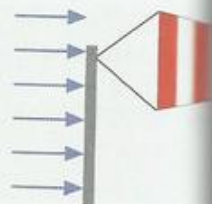
22 A prática de contravenções médias e graves implica a sanção de inibição de condução.

- a) Certo.
- b) Errado.



23 Em qual dos seguintes casos é mais perigoso o efeito dos ventos laterais?

- a) Quando se conduz um motociclo.
- b) Quando se conduz um veículo muito alto.
- c) Quando se modera excessivamente a velocidade.



24 Devo ceder a passagem a um veículo que sai de uma passagem de nível?

- a) Não, salvo se conduzir um veículo em missão urgente
- b) Sim, porque se apresenta pela direita.
- c) Sim, mesmo que conduza um veículo prioritário.



25 Devo ser eu a recuar, nesta passagem estreita, se:

- a) Estiver mais próximo do local onde o cruzamento é possível.
- b) Conduzir um veículo ligeiro.
- c) Conduzir um veículo pesado e estiver a subir.



26 A temperatura do motor é indicada:

- a) Pelo manómetro.
- b) Pelo termóstato.
- c) Pelo termómetro.
- d) Pelo taquímetro.



27 Considera-se visibilidade reduzida ou insuficiente sempre que o condutor não aviste toda a faixa de rodagem numa extensão de, pelo menos:

- a) 30 metros.
- b) 50 metros.
- c) 70 metros.



28 A não cedência de passagem aos peões fora da passagem assinalada dentro das localidades aquando de uma mudança de direcção constitui contravenção?

- a) Não.
- b) Sim, grave.
- c) Sim, média.



29 Se for detectado com mais de 4 deficiências do Tipo II em inspeção periódica obrigatória:

- a) O veículo é reprovado.
- b) O veículo é aprovado.




30 Os travões que oferecem maior segurança são:

- a) Os que dispõem de sistemas de disco, multiperfurados.
- b) Os que estejam equipados com servofreio.
- c) Os que estejam equipados com sistema ABS.



TESTE 17



1 Um condutor sob influência do álcool tem a percepção que os objectos parecem:

- a) Mais longe.
- b) Mais perto.
- c) À distância exacta.



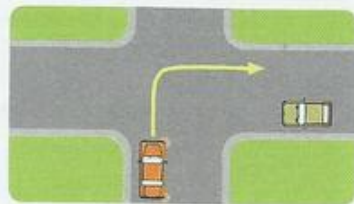
2 A ingestão de álcool só provoca efeitos negativos a partir de uma taxa de alcoolemia no sangue (TAS) igual ou superior a 0,6 g/l.

- a) Certo.
- b) Errado.



3 Como devo proceder, se mudar de direcção para a direita?

- a) Ceder a passagem ao outro condutor.
- b) Esperar que o outro condutor ceda a passagem.
- c) Avançar de imediato, porque tenho prioridade.



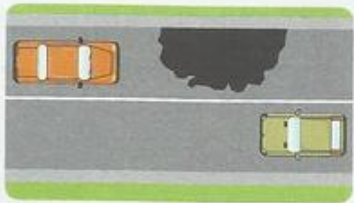
4 A sonolência faz diminuir o tempo de reacção.

- a) A afirmação é verdadeira.
- b) A afirmação é falsa.



5 Nesta situação, em que tenho parte da via obstruída:

- a) Devo ceder a passagem ao outro condutor.
- b) Devo avançar em primeiro lugar.



6 Regra geral, é responsável pelas contravenções rodoviárias o condutor do veículo?

- a) Sim.
- b) Não.



7 Um condutor, ao ser encandeado, deve:

- a) Buzinar insistentemente.
- b) Mudar para as luzes de máximos para evitar o encandeamento.
- c) Manter as luzes de médios, reduzir a velocidade e desviar o olhar para o bordo esquerdo da faixa de rodagem.



8 Perante o sinal de perigo:

- a) O condutor sabe que vai ter de parar.
- b) É obrigatório moderar a velocidade.
- c) A manobra de ultrapassagem é proibida.



9 É proibido estacionar a menos:

- a) De 6 metros antes da passagem assinalada para a travessia de peões.
- b) De 15 metros antes da passagem assinalada para a travessia de peões.
- c) De 5 metros antes da passagem assinalada para a travessia de peões.



10 Após o sinal:

- a) É proibido parar e estacionar.
- b) É permitido parar, mas não estacionar.
- c) É permitido parar e estacionar.



11 Nas curvas de visibilidade reduzida ou insuficiente, o condutor deve:

- a) Aproximar-se do eixo da faixa de rodagem para melhor fazer a curva.
- b) Travar fortemente antes do meio da mesma.
- c) Circular com velocidade moderada.



12 Perante o sinal de STOP:

- a) Todos os veículos são obrigados a parar.
- b) Apenas os veículos sem motor são obrigados a parar.
- c) Todos os veículos são obrigados a parar, excepto os veículos que circulam em missão urgente de socorro.



13 A recolha de informação influencia a tarefa da condução?

- a) Não, de forma alguma.
- b) Não, porque para tomar uma decisão não é necessário ter em conta a recolha da informação.
- c) Sim, é um dos momentos mais importantes da tarefa da condução.



14 A proibição de utilização de auscultadores sonoros aplica-se ao condutor:

- a) Enquanto circula e enquanto parado.
- b) Durante a marcha.
- c) Enquanto circula e também enquanto parado ou estacionado.



15 É proibido ultrapassar nas pontes.

- a) Certo.
- b) Errado.



16 Nas auto-estradas, a velocidade máxima permitida para um automóvel ligeiro de passageiros com reboque é de:

- a) 90 km/h.
- b) 100 km/h.
- c) 110 km/h.



17 Para evitar o aparecimento de sonolência, durante a condução o condutor deve:

- a) Ouvir música calma e relaxante.
- b) Fazer paragens regulares, aproximadamente de duas em duas horas.
- c) Tomar café, antes do início de cada viagem.



18 Perante o sinal de proibição, o condutor:

- a) Está proibido de parar.
- b) Está obrigado a parar.
- c) Está obrigado a parar, excepto se for portador do equipamento de pagamento eletrónico (p. ex. e-tag).



19 Os peões podem fazer o atravessamento da faixa de rodagem, fora das passagens assinaladas para o efeito, desde que não exista nenhuma a uma distância:

- a) Inferior a 100 metros.
- b) Superior a 100 metros.
- c) Inferior a 50 metros.



20 Nesta situação, posso estacionar a:

- a) A menos de 5 metros.
- b) A mais de 10 metros.
- c) A 5 metros.



21 Um veículo dotado de quatro rodas e tara inferior a 550 kg considera-se:

- a) Automóvel ligeiro de passageiros.
- b) Automóvel.
- c) Quadriciclo.



22 Nos túneis posso:

- a) Parar, mas não estacionar.
- b) Utilizar as luzes de máximos.
- c) Inverter a marcha.



23 Nas auto-estradas e vias equiparadas é proibido:

- a) Parar e estacionar nos locais destinados a esse fim.
- b) Ultrapassar pela esquerda.
- c) Exceder o limite de 60 km/h.



24 O comprimento máximo de um autocarro articulado é de:

- a) 18 metros.
- b) 16,50 metros.
- c) 18,50 metros.



25 O combustível mais poluente para o meio ambiente é:

- a) GPL.
- b) Gasolina.
- c) Gasóleo.



26 O sistema de lubrificação tem como principal função:

- a) Reduzir o atrito entre as peças do motor.
- b) Aumentar o atrito entre as peças do motor.
- c) O arrefecimento das peças do motor.



27 O manómetro indica:

- a) A temperatura do motor.
- b) A pressão do óleo do motor.
- c) O regime de rotação do motor.



28 Quando for ordenada a um condutor a cassação do título de condução, não é concedido novo título pelo período de:

- a) 2 anos.
- b) 4 anos.
- c) 5 anos.



29 Um condutor titular de licença de condução encontra-se habilitado a conduzir:

- a) Ciclomotores e tratores agrícolas.
- b) Ciclomotores e motocicletas.
- c) Todos os veículos a motor.




30 Uma via de trânsito destina-se a trânsito de:

- a) Uma fila de trânsito.
- b) Uma faixa de rodagem.
- c) Duas filas de trânsito.



TESTE 18



1 O que devo fazer em caso de acidente?

- a) Ligar as luzes avisadoras de perigo e não retirar o veículo da faixa de rodagem.
- b) Retirar o veículo da faixa de rodagem e sinalizá-lo com o triângulo de pré-sinalização no seu interior.
- c) Se possível, retirar o veículo da faixa de rodagem.



2 Em caso de redução súbita de velocidade, o condutor deve:

- a) Ligar as luzes de máximos.
- b) Ligar as luzes avisadoras de perigo.
- c) Sair de imediato da faixa de rodagem.



3 Ao sair de uma zona de abastecimento:

- a) Sou obrigado a ceder a passagem.
- b) Tenho prioridade de passagem.



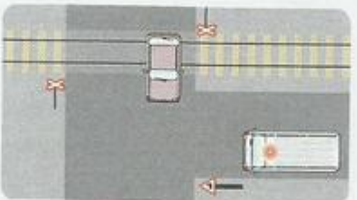
4 A velocidade máxima permitida para um automóvel ligeiro de passageiros e misto com reboque, dentro das localidades, é de:

- a) 60 km/h.
- b) 50 km/h.
- c) 40 km/h.



5 Todos os veículos são obrigados a ceder a passagem a outro veículo que saia de uma passagem de nível?

- a) Sim, excepto os veículos prioritários.
- b) Não, uma vez que as passagens de nível não oferecem perigo especial.
- c) Sim, mesmo os veículos prioritários.



6 Fora das localidades, o estacionamento é permitido:

- a) A menos de 50 metros dos cruzamentos e entroncamentos.
- b) Fora da faixa de rodagem.
- c) Na faixa de rodagem.



7 A manobra de ultrapassagem é proibida nas curvas?

- a) Não, em nenhuma.
- b) Sim, em todas.
- c) Sim, se a visibilidade for reduzida e se existir apenas uma fila de trânsito afecta a cada sentido.



8 Nas rotundas, o condutor deve transitar:

- a) Normalmente, pelo lado direito.
- b) De modo a dar a sua direita à parte central da praça.
- c) Pelo trajecto mais curto, de forma a não embarçar o trânsito.



9 Perante o sinal de informação:

- a) O condutor passa a transitar numa via reservada a automóveis e motociclos.
- b) O condutor deixa de ter limites de velocidade
- c) O condutor passa a transitar numa via pública com acessos condicionados.



10 A não utilização do cinto de segurança constitui uma contra-venção:

- a) Leve.
- b) Grave.
- c) Média.



11 O condutor que está a ser ultrapassado está impedido de:

- a) Diminuir a velocidade.
- b) Aumentar a velocidade.
- c) Alterar a trajectória.



12 É equiparado ao trânsito de peões:

- a) O trânsito de velocípedes.
- b) O trânsito de ciclomotores.
- c) O trânsito de cadeiras de rodas.



13 Durante a condução de motociclos é proibido:

- a) Circular com a mão fora do guidador.
- b) Circular com os pés fora dos apoios.
- c) Circular a par em pistas especiais.



14 É proibido o transporte de passageiros em motociclos ou ciclomotores com idade inferior a:

- a) 12 anos.
- b) 7 anos.
- c) 6 anos.



15 Por faixa de rodagem entende-se:

- a) Parte da via especialmente destinada ao trânsito de veículos.
- b) Via de trânsito afecta alternadamente a um ou outro sentido de trânsito.
- c) Zona longitudinal, destinada à circulação de uma única fila de trânsito.



16 A berma é uma parte da via pública não destinada ao trânsito de veículos.

- a) Certo.
- b) Errado.



17 Entende-se por auto-estrada:

- a) Uma via pública destinada ao trânsito rápido, com separação física das faixas de rodagem, sem cruzamentos de nível e acessos condicionados.
- b) Uma via pública destinada ao trânsito rápido, sem separação física das faixas de rodagem, com cruzamentos de nível e acessos condicionados.
- c) Uma via pública destinada ao trânsito rápido, com separação física das faixas de rodagem, sem cruzamentos de nível e acessos condicionados e sinalizada com o tal.



18 Nas auto-estradas ou vias equiparadas é permitido:

- a) Inverter o sentido de marcha.
- b) Fazer marcha-atrás.
- c) Ultrapassar.



19 É contração grave:

- a) Circular no sentido legalmente estabelecido.
- b) Fazer marcha-atrás.
- c) Parar na berma à noite, fora de uma localidade.



20 Um condutor habilitado com a categoria C pode conduzir:

- a) Um veículo motorizado, cuja tara seja acima de 16 000 kg.
- b) Um motociclo com ou sem assento lateral.
- c) Um veículo articulado motorizado com peso bruto do camião-tractor excedendo 16 000 kg.



21 Um condutor habilitado com a categoria B pode conduzir:

- a) Um veículo motorizado, cuja tara seja acima de 3500 kg, mas inferior a 16 000 kg.
- b) Um veículo de carga, uma carrinha, um autocarro, com peso bruto não superior a 3500 kg.
- c) Um veículo articulado motorizado, cujo peso bruto do camião-tractor não exceda 3500 kg.



22 Os condutores são obrigados a passar de máximos para médios:

- a) Nos acessos às auto-estradas.
- b) No atravessamento das passagens de nível.
- c) No cruzamento com peões.



23 Caso o condutor não guarde distância ou segurança lateral suficiente em relação aos restantes utentes:

- a) Não comete contravenção.
- b) Comete contravenção média.
- c) Comete contravenção grave.



24 O sinal de regulamentação limita a velocidade:

- a) Em todas as vias de trânsito da faixa de rodagem.
- b) Mínima em todas as vias de trânsito da faixa de rodagem.
- c) Apenas na via da direita.



25 Numa via em mau estado de conservação devo circular:

- a) Na berma.
- b) Próximo do eixo da faixa de rodagem.
- c) A velocidade especialmente moderada.



26 As setas de selecção marcadas no pavimento:

- a) Recomendam uma mudança de direcção.
- b) Obrigam a uma mudança de direcção.
- c) Permitem uma mudança de direcção.



27 Durante a marcha de um veículo, numa via em más condições de aderência, o condutor deve observar:

- a) Todas as distâncias a manter em relação a outros veículos.
- b) Somente a distância lateral.
- c) Somente a distância em relação ao veículo que circula à sua frente.



28 A condução sob efeito de álcool afecta positivamente o desempenho da função da condução.

- a) Certo.
- b) Errado.



29 Sendo necessário recorrer à marcha-atrás, na impossibilidade de cruzamento de veículos, numa via de forte inclinação, deve recuar:

- a) Quem chegou primeiro.
- b) Quem chegou depois.
- c) O veículo que sobe.
- d) O veículo que desce.




30 Ao encontrar este sinal, o condutor que circula em sentido contrário ao meu encontra do seu lado, um sinal de:

- a) Informação.
- b) Indicação.
- c) Cedência de passagem.



TESTE 19



1 As prescrições resultantes dos sinais luminosos prevalecem sobre as:

- a) Ordens dos agentes.
- b) Prescrições dos sinais verticais.
- c) Prescrições dos sinais de carácter temporário.



2 Perante o sinal, o condutor:

- a) Pode seguir por um dos sentidos obrigatórios possíveis.
- b) Não pode seguir por um dos sentidos obrigatórios possíveis.
- c) Passa a transitar numa via de dois sentidos.



3 A capacidade de previsão e antecipação aumenta com:

- a) O aumento do tempo de reacção.
- b) A experiência de condução.
- c) O aumento de potência do veículo.



4 Regra geral, a condução em auto-estrada provoca:

- a) Diminuição da distância de paragem.
- b) Comodidade e rapidez, desde que cumpridas as regras de segurança e o Código da Estrada.
- c) Diminuição do tempo de reacção.



5 A distância de segurança deve aumentar:

- a) Com o aumento da velocidade.
- b) Com a diminuição da velocidade.
- c) Com a diminuição do tempo de reacção.




6 A visibilidade condiciona a velocidade a transitar.

- a) Certo.
- b) Errado.



7 Devido à presença das marcas rodoviárias, devo:

- a) Parar.
- b) Reduzir a distância de segurança.
- c) Circular com prudência.



8 É proibido estacionar na faixa de rodagem, em segunda fila?

- a) Não.
- b) Sim.
- c) Sim, mas apenas se impedir a formação de uma fila de trânsito.



9 Nesta situação, devo:

- a) Parar e ceder a passagem só aos automóveis ligeiros.
- b) Ceder a passagem aos veículos que se apresentem pela direita.
- c) Parar e aguardar que a sinalização mude.



10 A forma como o condutor conduz influencia a manutenção do veículo?

- a) Sim, nas viagens de longo curso.
- b) Sim, mas só na prática de velocidades excessivas.
- c) Sim.



11 No entroncamento, o condutor que pretende mudar de direção à direita deve:

- a) Ceder a passagem ao veículo da direita.
- b) Avançar em primeiro lugar.
- c) Deve parar obrigatoriamente.
- d) Avançar.



12 Na colocação da carga num veículo deve assegurar-se:

- a) Que a tara do veículo não seja excedida.
- b) Que tudo seja transportado.
- c) O equilíbrio do veículo parado ou em marcha.



13 Como deve proceder o condutor perante a luz amarela do semáforo?

- a) Avançar.
- b) Parar, caso o consiga fazer em condições de segurança.
- c) Ceder a passagem e avançar com especial prudência.



14 Os amortecedores em mau estado provocam:

- a) Perda de aderência.
- b) Redução da distância de paragem.
- c) Diminuição da velocidade e aumento do conforto.



15 Perante este sinal:

- a) Devo ceder a passagem.
- b) Tenho prioridade de passagem.
- c) Devo moderar a velocidade.



16 A marcha-atrás é uma manobra de recurso que não pode ser realizada:

- a) Nas vias de trânsito de sentido único.
- b) Nas vias de trânsito de grande intensidade de trânsito.
- c) A velocidade diminuída.



17 Nesta situação, o condutor deve:

- a) Transitar com as luzes de presença e moderar a velocidade.
- b) Transitar a velocidade moderada, devido à diminuição de distância de paragem.
- c) Transitar com as luzes de cruzamento e com velocidade moderada, devido ao aumento da distância de paragem.




18 O condutor deve utilizar a luz de mudança de direcção da direita:

- a) Quando inicia a marcha.
- b) Em redução súbita de velocidade.
- c) Quando faz acesso à via de abrandamento.



19 O condutor pode parar sobre esta marca rodoviária?

- a) Sim, em caso de avaria.
- b) Não, nunca pode.
- c) Sim, pode.



20 As luzes de presença utilizam-se:

- a) Quando fico imobilizado numa passagem de nível à noite.
- b) Quando faço o atravessamento das passagens de nível à noite
- c) Na aproximação das passagens de nível à noite.



21 As luzes de médios iluminam a faixa de rodagem numa distância:

- a) Mínima de 30 metros.
- b) Máxima de 100 metros.
- c) Máxima de 30 metros.



22 As contrações graves levam à inibição de conduzir pelo período mínimo de:

- a) 1 mês.
- b) 12 meses.
- c) 2 meses.



23 Pode considerar-se automóvel ligeiro um veículo cujo peso bruto seja superior a 4500 kg?

- a) Não.
- b) Sim, desde que a lotação seja até 9 lugares, incluindo o condutor.
- c) Sim, desde que a lotação seja inferior a 9 lugares.



24 O sinal indica:

- a) Lomba.
- b) Depressão.
- c) Lomba ou depressão.




25 Qual dos seguintes factores influencia a distância de reacção?

- a) A velocidade.
- b) As condições de aderência.
- c) A potência do veículo.



26 As marcas no pavimento são:

- a) Guias.
- b) Raias.
- c) Bandas sonoras.



27 O trânsito de veículos de tracção animal é equiparado ao trânsito de peões?

- a) Sim.
- b) Não.



28 O relevo mínimo dos pneumáticos num automóvel ligeiro é de 1,6 mm.

- a) Certo.
- b) Errado.



29 Todas as contravenções que desrespeitem a cedência de passagem são leves?

- a) Certo.
- b) Errado.




30 Por que lado devem sair os passageiros?

- a) Indistintamente por um dos lados do veículo.
- b) Pelo lado permitido para a paragem ou pela retaguarda.
- c) Pelo lado permitido para a paragem ou para o estacionamento.



TESTE 20



1 A verificação do nível do óleo deve ser feita:

- a) Antes de iniciar cada viagem.
- b) De 1000 em 1000 km.
- c) Com o motor frio e o veículo na horizontal.



2 O passageiro deve ser portador de:

- a) Documento de identificação.
- b) Livrete do veículo.
- c) Título de condução.



3 Um condutor que tenha averbado no título de condução a categoria A1 pode conduzir:

- a) Motociclos com cilindrada superior a 125 cm³.
- b) Motociclos com cilindrada inferior a 125 cm³.
- c) Todos os motociclos.



4 Com a categoria C1, encontro-me habilitado a conduzir:

- a) Um veículo pesado de mercadorias ou passageiros cujo peso bruto seja superior a 16 000 kg.
- b) Um veículo pesado de mercadorias ou passageiros cujo peso bruto seja entre os 3500 kg e os 17 000 kg.
- c) Um veículo pesado de mercadorias ou passageiros cujo peso bruto seja entre os 3500 kg e os 16 000 kg.



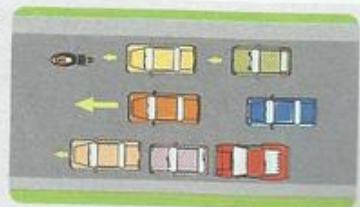
5 Para conduzir um veículo motorizado de lotação até 9 lugares, incluindo o condutor, devo ser titular de:

- a) Licença de condução.
- b) Carta de condução.
- c) Livrete de condução e licença de condução.



6 Quando em filas paralelas, o facto de os veículos de uma fila circularem mais rapidamente do que os de outra:

- a) É considerado ultrapassagem.
- b) Não é considerado ultrapassagem.
- c) É equiparado ao trânsito em auto-estrada.



7 É proibido o estacionamento nas vias em que impeça a formação de uma ou mais filas de trânsito.

- a) Certo
 b) Errado.



8 É considerada paragem:

- a) A detenção do veículo enquanto aguardo o verde da sinalização luminosa.
 b) A detenção do veículo devido a avaria ou acidente.
 c) A imobilização do veículo para a entrada de um passageiro.



9 É obrigatório transitar com os médios acesos:

- a) Sempre que circule a menos de 100 metros do veículo precedente.
 b) Sempre que transite numa auto-estrada.
 c) Sempre que transite numa via de sentido reversível.



10 Se utilizar as luzes de nevoeiro sem motivo justificado praticou uma contração:

- a) Leve.
 b) Grave.
 c) Média.



11 As luzes da chapa de matrícula devem permitir a fácil leitura do número de matrícula numa distância de, pelo menos:

- a) 10 metros.
 b) 20 metros.
 c) 30 metros.



12 Um condutor que não aviste a faixa de rodagem em toda a sua largura numa extensão de 30 metros fica impedido de:

- a) Inverter a marcha.
 b) Utilizar os médios.
 c) Utilizar os sinais de luzes.



13 A carga e descarga de veículos na via pública deverá fazer-se:

- a) Dentro das localidades durante o dia.
 b) Por períodos máximos de meia hora.
 c) Tão rápido quanto possível e sem embaraço para a circulação.



14 A condução de motociclo pelo condutor sem utilização de capacete de protecção é contração média.

- a) Certo.
 b) Errado.



15 Um dos cuidados a ter na mudança de uma roda em caso de emergência é:

- a) Desapertar as porcas em cruz.
- b) Primeiro levantar o veículo com ajuda do macaco e em seguida desapertar as rodas.
- c) Após a imobilização do veículo chamar as autoridades.



16 Qual destes veículos não pode transitar para além do sinal?

- a) O motociclo simples.
- b) O velocípede.
- c) O motociclo com carro lateral.



17 As situações de trânsito com peões idosos requerem, por parte dos condutores, uma atenção especial.

- a) Certo.
- b) Errado.



18 Os condutores de ambulâncias em missão urgente de socorro podem, em caso de necessidade:

- a) Não respeitar as ordens dos agentes reguladores de trânsito.
- b) Não parar perante o sinal de paragem obrigatória.
- c) Ultrapassar os limites de velocidade.



19 Conduzo um veículo ligeiro com reboque. Quem deve recuar, considerando que nos encontramos a distâncias idênticas do local em que o cruzamento é possível?

- a) Eu, porque vou a subir.
- b) O outro condutor, porque desce.
- c) O outro condutor, porque conduz um veículo da mesma categoria que o meu, mas sem reboque.



20 O sinal indica:

- a) Fim da proibição de utilizar os sinais sonoros.
- b) Obrigação de utilizar os sinais sonoros.
- c) Fim da obrigação de utilizar os sinais sonoros.



21 É obrigatório o seguro de responsabilidade civil?

- a) Sim, é obrigatório o seguro de responsabilidade civil pelos danos causados a terceiros.
- b) Não é obrigatório, mas todos os condutores devem fazer um seguro.
- c) Sim, é obrigatório um seguro por cada ocupante do veículo.



22 Nos túneis, é proibido inverter o sentido de marcha?

- a) Sim, quando a visibilidade for reduzida.
- b) Sim, mas apenas se for de sentido único.
- c) Sim, em todos os túneis.



23 A fadiga provoca sonolência. A sonolência provoca:

- a) Aumento do tempo de reacção.
- b) Diminuição do tempo de reacção.
- c) Diminuição da distância de paragem e do tempo de reacção.



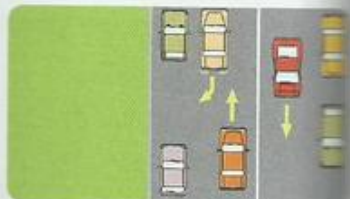
24 Fora das localidades, qual a velocidade mínima para um veículo ligeiro de passageiros sem reboque?

- a) 50 km/h.
- b) 60 km/h.
- c) Aquela que permita uma condução em segurança sem causar perigo para os restantes utentes da via.



25 O veículo da frente está a estacionar. Nesta situação, devo:

- a) Avançar, contornando o veículo e transitar pela via destinada ao trânsito contrário.
- b) Utilizar os sinais sonoros.
- c) Parar e esperar que o veículo conclua a manobra.



26 Para mudar de direcção à esquerda, devo:

- a) Moderar a velocidade e aproximar o veículo do eixo da faixa de rodagem com a devida antecedência.
- b) Fazer a manobra no trajecto mais curto.



27 O condutor tem um papel fundamental na preservação do meio ambiente?

- a) Não, é um papel importante que compete às entidades.
- b) Sim, porque todos os utentes devem contribuir para diminuir a degradação do meio ambiente.



28 Os sistemas de retenção para o transporte de crianças até 12 anos e 1,50 metros de altura são obrigatórios?

- a) Sim, até aos 7 anos.
- b) Sim, sempre que se transita na auto-estrada.
- c) Sim, sempre.



29 Ao diminuir a velocidade, a distância de paragem:

- a) Aumenta.
- b) Diminui.
- c) Mantém-se.




30 É proibido parar ou estacionar numa zona regulada por sinalização de carácter temporário.

- a) Certo.
- b) Errado.



TESTE 21



1 Os automóveis com lotação de 10 lugares que se destinam ao transporte de pessoas e de carga em simultâneo têm a designação de:

- a) Automóveis ligeiros de passageiros.
- b) Automóveis pesados de passageiros.
- c) Automóveis pesados mistos.



2 É permitido inverter o sentido de marcha nas:

- a) Vias de sentido único.
- b) Auto-estradas.
- c) Curvas de boa visibilidade.



3 A marcha-atrás deve ser efectuada lentamente e no menor trajecto possível, sendo apenas permitida:

- a) Para parar.
- b) Para parar ou estacionar.
- c) Como manobra auxiliar ou de recurso.



4 Na aproximação de uma passagem de nível à noite devo utilizar:

- a) As luzes de mínimos.
- b) As luzes de médios.
- c) As luzes de máximos.



5 Para efeitos de circulação, um conjunto de veículos é equiparado a veículo único.

- a) A afirmação é verdadeira.
- b) A afirmação é falsa.




6 As luzes de presença são obrigatórias nos automóveis:

- a) Apenas à frente.
- b) Apenas à retaguarda.
- c) À frente e à retaguarda.



7 Não sendo possível o cruzamento entre veículos, numa via de forte inclinação, deve recuar o condutor do veículo que:

- a) Sobe.
- b) Desce.
- c) Que se encontra mais próximo do local em que o cruzamento é possível.



8 Ao circular numa auto-estrada, devo manter uma distância do veículo que me precede:

- a) No mínimo 50 metros.
- b) No mínimo 100 metros.
- c) Que me permita parar em segurança.



9 A não utilização do cinto de segurança pelos ocupantes de um automóvel é sancionada com multa.

- a) Certo.
- b) Errado, só o condutor é que é sancionado.



10 Um condutor experiente faz uma avaliação mais correcta de qualquer situação.

- a) A afirmação é verdadeira.
- b) A afirmação é falsa.



11 Os filtros e óleos devem ser substituídos:

- a) De acordo com as instruções do fabricante.
- b) De 10 000 em 10 000 quilómetros.
- c) De 1000 em 1000 quilómetros.



12 Qual a função dos amortecedores?

- a) Absorver as oscilações das molas.
- b) Suportar o peso da carga transportada pelo veículo.
- c) Permitir a transmissão do movimento do motor às rodas.



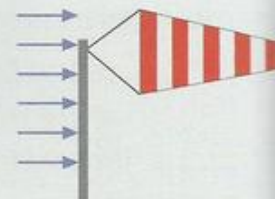
13 As luzes de nevoeiro da retaguarda devem ser utilizadas:

- a) Sempre que, devido às condições atmosféricas, a visibilidade seja reduzida.
- b) Quando se circula à noite fora das localidades.
- c) Sempre que haja grande intensidade de trânsito.



14 O vento lateral forte influencia a normal trajectória do veículo?

- a) Não, só se conduzir um motociclo.
- b) Não, só se conduzir um veículo pesado.
- c) Sim.



15 A sinalização existente na via pública tem sempre carácter permanente?

- a) Sim, sempre.
- b) Não, uma vez que no caso de existência de obras ou obstáculos poderá ser utilizada sinalização de carácter temporária.
- c) Não, nunca.




16 O sinal indica o fim de uma via de trânsito.

- a) Certo.
- b) Errado.



17 As marcas rodoviárias que orientam o condutor quanto aos sentidos que podem tomar designam-se por:

- a) Setas de desvio.
- b) Setas de obrigação.
- c) Setas de orientação.



18 Considera-se estacionamento indevido ou abusivo:

- a) O de veículos durante 60 dias ininterruptos em local da via pública.
- b) O de veículos durante 30 dias ininterruptos em local da via pública ou em parque.
- c) O de veículos durante 15 dias ininterruptos em local da via pública.



19 Diminuindo subitamente a velocidade por a visibilidade ser manifestamente reduzida, devo utilizar as luzes avisadoras de perigo.

- a) Certo.
- b) Errado.



20 Os titulares de carta de condução válida para a categoria C estão habilitados a conduzir veículos da classe:

- a) A.
- b) B.
- c) D.



21 Nas vias de sentido único é proibido ultrapassar.

- a) Certo.
- b) Errado.



22 O sinal de perigo indica:

- a) Lomba.
- b) Bermas baixas.
- c) Depressão.



23 Com o veículo carregado, a distância de paragem percorrida pelo veículo:

- a) Diminui.
- b) Aumenta.
- c) Não varia.



24 É permitida a circulação a uma velocidade superior a 60 km/h dentro de uma localidade?

- a) Não, nunca.
- b) Sim, desde que cumpra com a segurança rodoviária.
- c) Sim, quando transite em missão urgente de socorro.



25 Perante uma situação de falta de visibilidade devido a chuva intensa, deve-se:

- a) Ligar as luzes de mínimos.
- b) Ligar as luzes de máximos.
- c) Ligar os limpa pára-brisas.



26 A monotonia na condução acontece:

- a) Especialmente quando se conduz em locais de boa visibilidade.
- b) Durante várias horas seguidas sem paragens.
- c) Nos casos de grande intensidade de trânsito.



27 O tempo de reacção pode diminuir com a ingestão de determinados medicamentos.

- a) A afirmação é verdadeira.
- b) A afirmação é falsa.



28 Nos motociclos não é obrigatório ter dois espelhos retrovisores.

- a) Certo.
- b) Errado.



29 Qual o componente do sistema de suspensão que suporta o peso do veículo?

- a) A mola.
- b) A barra estabilizadora.
- c) O amortecedor.



30 Após o sinal, estou obrigado a desligar as luzes de cruzamento?

- a) Sim.
- b) Não.



GRELHA^{DE} SOLUÇÕES



TESTE

	1	2	3	4	5	6	7	8	9	10	11	12	13	14	15	16	17	18	19	20	21
1	C	B	A	A	C	B	B	A	A	A	B	B	C	B	B	C	A	C	B	C	C
2	B	C	A	C	B	B	B	B	B	C	A	B	B	A	B	C	B	B	A	A	C
3	B	C	B	C	B	A	B	B	B	B	C	B	A	A	C	B	A	A	B	B	C
4	C	C	C	A	B	B	B	A	B	B	A	B	C	C	B	C	B	A	B	C	B
5	C	C	C	B	B	A	B	C	B	A	A	A	A	C	A	C	A	C	A	B	A
6	A	A	B	B	A	B	A	B	B	C	A	C	A	A	C	C	A	B	A	B	C
7	A	B	A	A	A	B	B	A	A	B	A	B	A	B	C	C	C	C	C	A	C
8	B	A	B	A	A	C	B	C	B	B	C	A	A	C	A	A	B	B	B	C	C
9	A	C	B	B	A	B	B	C	C	C	C	A	C	C	A	B	C	C	C	C	A
10	A	C	B	B	C	C	A	B	C	A	A	B	A	B	A	C	C	C	C	A	A
11	A	A	A	B	B	A	B	C	C	C	C	B	B	C	B	A	C	B	A	B	A
12	B	A	B	A	C	C	B	B	B	C	B	C	A	B	A	C	A	C	C	A	A
13	B	B	B	B	A	B	A	C	B	B	C	C	A	A	C	A	C	B	B	C	A
14	C	A	A	B	B	B	C	A	B	C	B	C	B	B	A	C	B	B	A	A	C
15	C	C	B	C	A	B	B	B	B	B	A	A	A	A	B	B	B	A	C	A	B
16	C	B	B	B	C	C	C	C	A	A	B	C	B	B	C	A	B	A	B	A	A
17	A	C	A	B	C	B	C	C	B	C	B	A	A	C	A	A	B	C	C	A	B
18	B	A	B	B	C	B	A	B	C	C	A	A	B	C	A	B	C	C	A	C	B
19	B	A	C	A	C	A	A	A	D	C	C	B	A	B	C	B	C	A	B	C	A
20	C	A	B	B	B	B	C	C	B	A	A	C	B	A	C	C	C	C	A	A	B
21	B	B	B	B	B	A	B	B	C	A	A	A	C	B	A	A	C	B	C	A	B
22	C	A	B	B	B	B	C	B	A	A	C	B	C	A	B	A	B	C	B	C	A
23	B	B	B	B	B	C	B	B	C	B	A	A	B	A	B	A	B	C	A	A	B
24	C	B	C	C	B	A	C	B	B	B	C	A	A	A	B	C	A	A	B	C	A
25	B	C	C	B	B	C	B	A	B	C	A	B	C	B	A	A	B	C	A	C	C
26	C	A	C	C	B	B	B	B	B	B	C	B	C	A	A	C	A	C	C	B	B
27	B	C	C	A	A	B	B	A	C	C	B	B	B	B	B	B	B	A	B	B	B
28	C	B	C	C	B	B	A	A	B	C	A	A	B	B	B	C	C	B	A	C	A
29	B	C	A	C	B	C	B	B	B	B	B	B	B	C	B	A	A	C	B	B	A
30	C	B	C	B	C	A	C	B	A	A	B	B	B	A	C	C	A	C	C	A	B

PERGUNTA