

República de Moçambique
Ministério da Educação e Cultura
Instituto Nacional de Exames, Certificação e Equivalências

ES1 / 2025
9ª Classe

Exame Final de Geografia

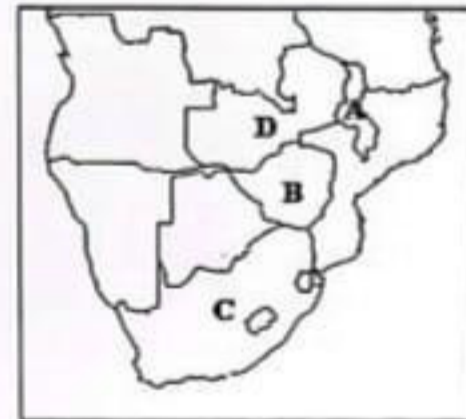
1ª Chamada
90 Minutos

Este exame contém dez (10) perguntas. Responda-as na sua folha de respostas.)!>@
Na margem direita, está indicada, entre parênteses, a cotação de cada pergunta em valores.

Geo-1-1-11-0842-0001-01

Cotação

1. O mapa ao lado representa os países que fazem fronteira com Moçambique.
Faça a legenda dos países que fazem fronteira com Moçambique representados pelas letras A, B, C e D.



(2,0)

2. Em Moçambique, distinguem-se duas grandes unidades geológicas.

- a) Assinale com P as características do Pré-câmbrio e com F as do Fanerozóico
- A Distribui-se sobretudo pela região Norte e Centro-Occidental
B Representado pelo Cratão Rodésiano e Cinturão de Moçambique
C É constituído essencialmente por rochas sedimentares
D Ocupa quase a totalidade das províncias de Inhambane, Gaza e Maputo

(2,0)

- b) Estabeleça a correspondência entre os recursos minerais (Coluna A) e as respectivas províncias de ocorrência (Coluna B).

(2,0)

Coluna A

| |
|----------------|
| 1. Bentonite |
| 2. Cobre |
| 3. Gás natural |
| 4. Grafite |

Coluna B

| |
|-----------------|
| A. Cabo Delgado |
| B. Inhambane |
| C. Maputo |
| D. Tete |

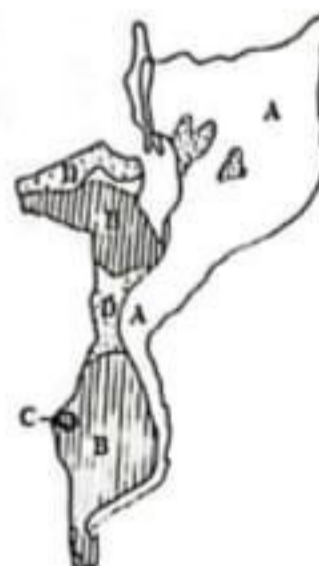
Vire a folha



3. Observe o mapa ao lado que representa a distribuição do clima em Moçambique.

a) Indique a letra correspondente a cada tipo de clima.

| Clima | Letra |
|-------------------------|-------|
| 1. Tropical seco | |
| 2. Tropical semi-árido | |
| 3. Tropical de altitude | |
| 4. Tropical húmido | |



(2,0)

b) Caracterize com dois (2) aspectos o clima tropical de altitude.

(1,0)

4. Em que província se localizam os seguintes parques e reservas nacionais?

(2,0)

- | | |
|--------------------------------|---------------------|
| A Parque Nacional de Gorongosa | C Reserva de Niassa |
| B Parque Nacional de Bazaruto | D Reserva do Gilé |

5. O relevo exerce influência sobre os rios de Moçambique.

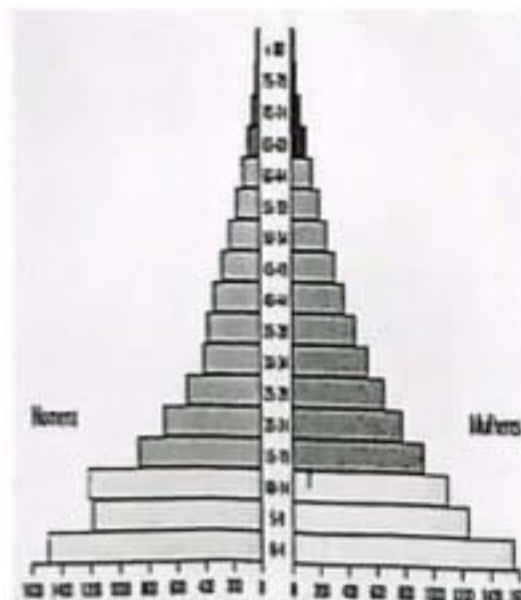
Indique duas (2) características dos rios moçambicanos, de acordo com a influência do relevo.

(1,0)

6. Observe a pirâmide ao lado.

a) Copie para a sua folha de respostas, apenas as opções que caracterizam a mesma.

- A O topo (idade dos idosos) é curto e estreito, sinónimo de que a esperança de vida é longa
- B Há mais homens na faixa etária dos 10 aos 14 anos
- C De um modo geral, o número de mulheres é inferior ao dos homens
- D Possui uma base (dos jovens) muito larga



(1,0)

b) Mencione duas (2) implicações de uma pirâmide deste tipo para Moçambique.

(2,0)

7. Em Moçambique, predomina a agricultura familiar ou de subsistência.

Caracterize com dois (2) aspectos este tipo de agricultura.

(1,0)

8. A pesca em Moçambique, pode ser dividida em dois tipos, tendo em conta o nível de desenvolvimento tecnológico.

a) Identifique-os.

(1,0)

b) Caracterize com dois (2) aspectos o tipo de pesca, que pelo seu nível tecnológico e volume de produção, se pode classificar como uma verdadeira indústria.

(1,0)

9. A actividade industrial é uma das responsáveis pela poluição atmosférica.

Com dois (2) aspectos, explique de que forma a actividade industrial pode influenciar negativamente na atmosfera.

(1,0)

10. Moçambique possui portos importantes onde se manuseia a carga nacional e da região da África Austral.

Mencione dois (2) dos principais portos de Moçambique.

(1,0)